

M 7 - Função Exponencial



1 (Furg-RS) O valor da expressão

$$A = \frac{2^{n+3} + 2^{n+2} - 2^{n-1}}{2^{n-2} + 2^n} \text{ é:}$$

- a) $\frac{23}{5}$ b) $\frac{46}{10}$ c) $\frac{11}{2}$ ~~x~~ d) $\frac{46}{5}$ e) $\frac{115}{8}$

$$\frac{2^n(2^3 + 2^2 - 2^{-1})}{2^n(2^{-2} + 1)} = \frac{8 + 4 - \frac{1}{2}}{\frac{1}{4} + 1} = \frac{46}{5}$$

2 (Uniupe-MG) Se $A = \sqrt{2^{20} + 2^{23}}$, então A é igual a:

- ~~x~~ a) $3 \cdot 2^{10}$ c) $1 + 2^{13}$
 b) 2^{13} d) $2^{10} + 2^{\frac{23}{2}}$

$$A = \sqrt{2^{20} + 2^{20} \cdot 2^3} \rightarrow A = \sqrt{2^{20} \cdot (1 + 2^3)}$$

$$A = \sqrt{2^{20} \cdot 9}$$

$$A = \sqrt{2^{20} \cdot 3^2}$$

$$A = 2^{10} \cdot 3$$

3 (UFRN) Dados os números $M = 9,84 \cdot 10^{15}$ e $N = 1,23 \cdot 10^{16}$, pode-se afirmar que:

- ~~x~~ a) $M < N$ c) $M > N$
 b) $M + N = 1,07 \cdot 10^{16}$ d) $M \cdot N = 1,21 \cdot 10^{31}$

Pelos dados, temos:

$$N = 1,23 \cdot 10^{16} \rightarrow N = 12,3 \cdot 10 \cdot 10^{15}$$

$$N = 12,3 \cdot 10^{15}, \text{ ou seja, } M < N$$

$$M + N = 9,84 \cdot 10^{15} + 12,3 \cdot 10^{15} \rightarrow M + N = 10^{15} \cdot (9,84 + 12,3)$$

$$M + N = 10^{15} \cdot 22,14$$

$$M + N = 2,214 \cdot 10^{16}$$

$$M \cdot N = 9,84 \cdot 10^{15} \cdot 12,3 \cdot 10^{15} \rightarrow M \cdot N = 121,032 \cdot 10^{30}$$

$$M \cdot N = 1,21032 \cdot 10^{32}$$

4 (UAM-SP) Há pouco, Carla procurou-me para mostrar uma coisa interessante. Ela resolveu três equações exponenciais e todas apresentaram o mesmo resultado: $x = 2$.

— Giba, o que é que você acha? Será que é coincidência ou andei errando alguma coisa?

— Deixe-me ver, Carla. Quais são as equações?

— Aqui estão: $3^{x+2} - 3^x = 72$

$$2^{x-4} = \frac{1}{4}$$

$$2^{2x} - 2^{x+3} + 16 = 0$$

Ela acertou todas as equações?

- a) Não, errou a 2^a . d) Não, errou todas.
 b) Não, acertou apenas a 3^a . ~~x~~ e) Sim, acertou todas.
 c) Não, errou a 1^a e a 3^a .

$$\bullet 3^{x+2} - 3^x = 72 \rightarrow 3^2 \cdot 3^x - 3^x = 72$$

$$3^x(3^2 - 1) = 72$$

$$8 \cdot 3^x = 72$$

$$3^x = 9$$

$$3^x = 3^2 \rightarrow x = 2$$

$$\bullet 2^{x-4} = \frac{1}{4} \rightarrow 2^{x-4} = 2^{-2} \rightarrow x - 4 = -2$$

$$x = 2$$

$$\bullet 2^{2x} - 2^{x+3} + 16 = 0 \rightarrow y^2 - 8y + 16 = 0 \rightarrow y = 4$$

$$\text{Logo: } 2^x = 4 \rightarrow 2^x = 2^2 \rightarrow x = 2$$

5 (Unicap-PE) Determine o valor de x , tal que $5^{x+1} + 5^{x+2} = 3750$.

$$5^{x+1} + 5^{x+2} = 3750 \rightarrow 5 \cdot 5^x + 5^2 \cdot 5^x = 3750$$

$$5 \cdot 5^x + 25 \cdot 5^x = 3750$$

$$30 \cdot 5^x = 3750$$

$$5^x = 125$$

$$5^x = 5^3$$

$$x = 3$$

- 6** (UEMA) Seja $f(x) = 3^{x-4} + 3^{x-3} + 3^{x-2} + 3^{x-1}$.
O valor de x para que se tenha $f(x) = 40$ é:
a) 0 b) -2 c) 1 **x** d) 4 e) 3

$$f(x) = 3^{x-4} + 3^{x-3} + 3^{x-2} + 3^{x-1}$$

$$40 = 3^x \cdot 3^{-4} + 3^x \cdot 3^{-3} + 3^x \cdot 3^{-2} + 3^x \cdot 3^{-1}$$

$$40 = 3^x \left(\frac{1}{3^4} + \frac{1}{3^3} + \frac{1}{3^2} + \frac{1}{3^1} \right)$$

$$40 = 3^x \left(\frac{1}{81} + \frac{1}{27} + \frac{1}{9} + \frac{1}{3} \right)$$

$$40 = 3^x \left(\frac{1+3+9+27}{81} \right)$$

$$40 = 3^x \cdot \frac{40}{81}$$

$$3^x = 81$$

$$3^x = 3^4$$

$$x = 4$$

Em questões como a 7, a resposta é dada pela soma dos números que identificam as alternativas corretas.

- 7** (UEM-PR) Com relação aos números reais, é correto afirmar que:

- (01) $\left(3 - \frac{3}{2}\right)^2 = \left(-\frac{3}{2}\right)^2$
 (02) $52 \cdot (49!) - 2 \cdot (49!) = 50!$
 (04) $|\sqrt{10} - 4| = 4 - \sqrt{10}$
 (08) o quociente $\frac{1}{2 \cdot 3^x - 3 \cdot 2^x}$ é impossível para $x = 1$
 (16) $2 \cdot 3^x - 3 \cdot 2^x = 0$, para todo número real x
 (32) $0,25 \cdot 10^{-3} = 2,5 \cdot 10^{-4}$

(01) $\left(3 - \frac{3}{2}\right)^2 = \left(\frac{6-3}{2}\right)^2 = \left(\frac{3}{2}\right)^2 = \frac{9}{4}$
 $\left(-\frac{3}{2}\right)^2 = \frac{9}{4}$
 A proposição é falsa.

(02) $52 \cdot (49!) - 2 \cdot (49!) = 49!(52 - 2) = 49! \cdot 50 = 50!$
 A proposição é verdadeira.

(04) $|\sqrt{10} - 4| = |4 - \sqrt{10}| = 4 - \sqrt{10}$
 A proposição é verdadeira.

(08) Substituindo $x = 1$, vem:
 $\frac{1}{2 \cdot 3^1 - 3 \cdot 2^1} = \frac{1}{6 - 6} = \frac{1}{0}$ (impossível)
 A proposição é verdadeira.

(16) $2 \cdot 3^x - 3 \cdot 2^x = 0 \rightarrow 2 \cdot 3^x = 3 \cdot 2^x$
 $\frac{3^x}{2^x} = \frac{3}{2}$
 $\left(\frac{3}{2}\right)^x = \left(\frac{3}{2}\right) \rightarrow x = 1$
 A proposição é falsa.

(32) $0,25 \cdot 10^{-3} = 2,5 \cdot 10^{-1} \cdot 10^{-3} = 2,5 \cdot 10^{-4}$
 A proposição é verdadeira.

Portanto: 02 + 04 + 08 + 32 = 46

- 8** (UCDB-MS) O conjunto verdade da equação exponencial $\frac{2^{2x}}{3^{2x}} + 1 = \frac{13 \cdot 2^{x-1}}{3^{x+1}}$ é:

- a) $\left\{\frac{2}{3}, \frac{3}{2}\right\}$ c) $\left\{-\frac{2}{3}, \frac{3}{2}\right\}$ **x** e) $\{1, -1\}$
 b) $\left\{-\frac{2}{3}, -\frac{3}{2}\right\}$ d) $\{1, 0\}$

$$\frac{2^{2x}}{3^{2x}} + 1 = \frac{13 \cdot 2^{x-1}}{3^{x+1}} \rightarrow \left(\frac{2}{3}\right)^{2x} + 1 = \frac{13 \cdot 2^x \cdot 2^{-1}}{3^x \cdot 3}$$

$$\left(\frac{2}{3}\right)^{2x} + 1 = \frac{2^x \cdot \left(\frac{13}{2}\right)}{3^x \cdot 3}$$

$$\left(\frac{2}{3}\right)^{2x} + 1 = \left(\frac{2}{3}\right)^x \cdot \frac{13}{2} \cdot \frac{1}{3}$$

$$\left(\frac{2}{3}\right)^{2x} + 1 = \frac{13}{6} \cdot \left(\frac{2}{3}\right)^x$$

Substituindo $\left(\frac{2}{3}\right)^x = y$, temos:

$$y^2 + 1 = \frac{13}{6} \cdot y \rightarrow \frac{6y^2 + 6}{6} = \frac{13y}{6}$$

$$6y^2 - 13y + 6 = 0 \begin{cases} y_1 = \frac{2}{3} \\ y_2 = \frac{3}{2} \end{cases}$$

Logo:

Se $y = \frac{2}{3}$, temos: $\left(\frac{2}{3}\right)^x = \left(\frac{2}{3}\right) \rightarrow x = 1$

Se $y = \frac{3}{2}$, temos: $\left(\frac{2}{3}\right)^x = \left(\frac{3}{2}\right) = \left(\frac{2}{3}\right)^{-1} \rightarrow x = -1$

Portanto: $S = \{-1, 1\}$

- 9** (UESPI) O conjunto verdade da equação $2^x - 2^{-x} = 5(1 - 2^{-x})$ é igual a:

- a) $\{1, 4\}$ c) $\{0, 1\}$ e) $\{\}$
 b) $\{1, 2\}$ **x** d) $\{0, 2\}$

$$2^x - 2^{-x} = 5(1 - 2^{-x}) \rightarrow 2^x - \frac{1}{2^x} = 5\left(1 - \frac{1}{2^x}\right)$$

Substituindo $2^x = y$, temos:

$$y - \frac{1}{y} = 5 - \frac{5}{y}$$

$$y^2 - 1 = 5y - 5$$

$$y^2 - 5y + 4 = 0 \begin{cases} y_1 = 4 \\ y_2 = 1 \end{cases}$$

Portanto:

$$2^x = 4 \quad \text{ou} \quad 2^x = 1$$

$$2^x = 2^2 \quad 2^x = 2^0$$

$$x = 2 \quad x = 0$$

Portanto: $S = \{0, 2\}$

10 (UFMS-RS) Um piscicultor construiu uma represa para criar traíras. Inicialmente, colocou 1 000 traíras na represa e, por um descuido, soltou 8 lambaris. Suponha-se que o aumento das populações de lambaris e traíras ocorra, respectivamente, segundo as leis $L(t) = L_0 10^t$ e $T(t) = T_0 2^t$, onde L_0 é a população inicial de lambaris, T_0 , a população inicial de traíras, e t , o número de anos que se conta a partir do ano inicial.

Considerando-se $\log 2 = 0,3$, o número de lambaris será igual ao de traíras depois de quantos anos?

- a) 30 b) 18 c) 12 d) 6 **x e) 3**

$$L(t) = T(t) \rightarrow 8 \cdot 10^t = 1\,000 \cdot 2^t$$

$$10^t = 125 \cdot 2^t$$

$$\frac{10^t}{2^t} = 125$$

$$5^t = 125$$

$$5^t = 5^3$$

$$t = 3 \text{ anos}$$

11 (Cefet-PR) Cientistas de um certo país, preocupados com as possibilidades cada vez mais ameaçadoras de uma guerra biológica, pesquisam uma determinada bactéria

que cresce segundo a expressão $P(t) = \frac{256}{125} \cdot \left(\frac{5}{2}\right)^{t+1}$,

onde t representa o tempo em horas. Para obter-se uma população de 3 125 bactérias, será necessário um tempo, em horas, com valor absoluto no intervalo:

- a)]0, 2] c)]4, 6] e)]8, 10]
b)]2, 4] **x d)]6, 8]**

$$3\,125 = \frac{256}{125} \cdot \left(\frac{5}{2}\right)^{t+1} \rightarrow 5^5 = \frac{2^8}{5^3} \cdot \left(\frac{5}{2}\right)^{t+1}$$

$$\frac{5^8}{2^8} = \left(\frac{5}{2}\right)^{t+1}$$

$$\left(\frac{5}{2}\right)^8 = \left(\frac{5}{2}\right)^{t+1}$$

$$t + 1 = 8$$

$$t = 7 \text{ h}$$

12 (UCDB-MS) Certa substância radioativa de massa M_0 , no instante $t = 0$, tende a se transformar em outra substância não radioativa.

Para cada instante $t \geq 0$, dado em segundos, a massa da substância radioativa restante obedece à lei $M(t) = M_0 3^{-2t}$. Nessas condições, o tempo necessário, em segundos, para que a massa da substância radioativa seja reduzida a um terço da massa inicial é igual a:

- a) 3 b) 2,5 c) 1,5 d) 1 **x e) 0,5**

Devemos ter $M(t) = \frac{M_0}{3}$. Logo:

$$M(t) = M_0 \cdot 3^{-2t} \rightarrow \frac{M_0}{3} = M_0 \cdot 3^{-2t}$$

$$\frac{1}{3} = 3^{-2t}$$

$$3^{-1} = 3^{-2t}$$

$$-2t = -1$$

$$t = \frac{1}{2} \text{ ou } t = 0,5 \text{ s}$$

13 (Vunesp-SP) Num período prolongado de seca, a variação da quantidade de água de certo reservatório é dada pela função:

$$q(t) = q_0 \cdot 2^{(-0,1)t}$$

sendo q_0 a quantidade inicial de água no reservatório e $q(t)$ a quantidade de água no reservatório após t meses. Em quantos meses a quantidade de água do reservatório se reduzirá à metade do que era no início?

- a) 5 b) 7 c) 8 d) 9 **x e) 10**

A quantidade de água do reservatório se reduzirá à metade quando

$$q(t) = \frac{1}{2} q_0:$$

$$q(t) = q_0 \cdot 2^{(-0,1)t} \rightarrow \frac{1}{2} q_0 = q_0 \cdot 2^{(-0,1)t}$$

$$2^{-1} = 2^{-0,1t}$$

$$-0,1t = -1$$

$$t = 10$$

14 (FGV-SP) Curva de Aprendizagem é um conceito criado por psicólogos que constataram a relação existente entre a eficiência de um indivíduo e a quantidade de treinamento ou experiência possuída por este indivíduo. Um exemplo de Curva de Aprendizagem é dado pela expressão $Q(t) = 700 - 400e^{-0,5t}$, onde

Q = quantidade de peças produzidas mensalmente por um funcionário
 t = meses de experiência
 $e \simeq 2,7183$

- a) De acordo com esta expressão, quantas peças um funcionário com 2 meses de experiência deverá produzir mensalmente?
 b) E um funcionário sem qualquer experiência, quantas peças deverá produzir mensalmente?

Compare este resultado com o resultado do item a.
 Há coerência entre eles?

a) Sendo $Q(t) = 700 - 400 \cdot e^{-0,5t}$, temos:

$$Q(2) = 700 - 400 \cdot e^{(-0,5)(2)}$$

$$Q(2) = 700 - 400 \cdot e^{-1}$$

$$Q(2) = 700 - \frac{400}{e}$$

$$Q(2) \simeq 552$$

b) $Q(0) = 700 - 400 \cdot e^{(-0,5)(0)}$

$$Q(0) = 700 - 400 \cdot e^0$$

$$Q(0) = 700 - 400$$

$$Q(0) = 300$$

Comparando esses resultados, observamos que $Q(2) > Q(0)$, isto é, a eficiência de um funcionário com 2 meses de experiência é maior do que a de um funcionário sem qualquer experiência.

15 (Vunesp-SP) Uma fórmula matemática para se calcular aproximadamente a área, em metros quadrados, da superfície corporal de uma pessoa, é dada por:

$S(p) = \frac{11}{100} p^{\frac{2}{3}}$, onde p é a massa da pessoa em quilogramas.

Considere uma criança de 8 kg. Determine:

- a) a área da superfície corporal da criança
 b) a massa que a criança terá quando a área de sua superfície corporal duplicar (use a aproximação $\sqrt{2} = 1,4$)

a) Temos: $S(8) = \frac{11}{100} \cdot 8^{\frac{2}{3}} \rightarrow S(8) = \frac{11}{100} \cdot (2^3)^{\frac{2}{3}} = \frac{11}{100} \cdot 2^2 = 0,44$

$$S(8) = 0,44 \text{ m}^2$$

b) Duplicando a área corporal, teremos 0,88 m².

$$\text{Então, } \frac{11}{100} \cdot p^{\frac{2}{3}} = 0,88 \text{ (} p > 0 \text{)} \rightarrow p^{\frac{2}{3}} = 8$$

$$p = 2^4 \cdot \sqrt{2} = 16 \cdot 1,4 = 22,4$$

16 (Unicamp-SP) O processo de resfriamento de um determinado corpo é descrito por: $T(t) = T_A + \alpha 3^{\beta t}$, onde $T(t)$ é a temperatura do corpo, em graus Celsius, no instante t , dado em minutos, T_A é a temperatura ambiente, suposta constante, e α e β são constantes. O referido corpo foi colocado em um congelador com temperatura de -18°C . Um termômetro no corpo indicou que ele atingiu 0°C após 90 minutos e chegou a -16°C após 270 minutos.

- a) Encontre os valores numéricos das constantes α e β .
 b) Determine o valor de t para o qual a temperatura do corpo no congelador é apenas $\left(\frac{2}{3}\right)^\circ\text{C}$ superior à temperatura ambiente.

Consideremos que a temperatura T_A também seja expressa em graus Celsius.

a) Do enunciado, podemos concluir que:

$$\begin{cases} 0 = -18 + \alpha \cdot 3^{90\beta} \\ -16 = -18 + \alpha \cdot 3^{270\beta} \end{cases}$$

Resolvendo esse sistema, obtemos:

$$\begin{aligned} \alpha \cdot 3^{90\beta} &= 18 & \rightarrow & \frac{\alpha \cdot 3^{90\beta}}{\alpha \cdot 3^{270\beta}} = \frac{18}{2} \\ \alpha \cdot 3^{270\beta} &= 2 & & \\ \frac{3^{(90\beta - 270\beta)}}{3^{90\beta - 270\beta}} &= 9 & & \\ \frac{3^{90\beta - 270\beta}}{3^{90\beta - 270\beta}} &= 3^2 & & \\ 90\beta - 270\beta &= 2 & & \\ \beta &= -\frac{2}{180} & & \\ \beta &= -\frac{1}{90} & & \end{aligned}$$

O valor de α é igual a:

$$\begin{aligned} \alpha \cdot 3^{90\beta} &= 18 \rightarrow \alpha \cdot 3^{90\left(-\frac{1}{90}\right)} = 18 \\ \alpha \cdot 3^{-1} &= 18 \\ \alpha &= 54 \end{aligned}$$

b) Sendo $T = \left(-18 + \frac{2}{3}\right)^\circ\text{C}$, temos:

$$\begin{aligned} T(t) &= -18 + 54 \cdot 3^{-\frac{1}{90}t} \rightarrow -18 + \frac{2}{3} = -18 + 54 \cdot 3^{-\frac{1}{90}t} \\ \frac{2}{3} &= 54 \cdot 3^{-\frac{1}{90}t} \\ \frac{1}{3} &= 27 \cdot 3^{-\frac{1}{90}t} \\ \frac{1}{81} &= 3^{-\frac{1}{90}t} \\ 3^{-4} &= 3^{-\frac{1}{90}t} \\ -\frac{1}{90}t &= -4 \\ t &= 360 \text{ min} \end{aligned}$$

17 (UERJ) Utilize os dados abaixo para responder às questões.

Em um município, após uma pesquisa de opinião, constatou-se que o número de eleitores dos candidatos A e B variava em função do tempo t , em anos, de acordo com as seguintes funções:

$$A(t) = 2 \cdot 10^5(1,6)^t$$

$$B(t) = 4 \cdot 10^5(0,4)^t$$

Considere as estimativas corretas e que $t = 0$ refere-se ao dia 1 de janeiro de 2000.

- Calcule o número de eleitores dos candidatos A e B em 1º de janeiro de 2000.
- Determine em quantos meses os candidatos terão o mesmo número de eleitores.
- Mostre que, em 1º de outubro de 2000, a razão entre os números de eleitores de A e B era maior que 1.

a) Candidato $A \rightarrow A(0) = 2 \cdot 10^5(1,6)^0 = 200\,000$ eleitores

Candidato $B \rightarrow B(0) = 4 \cdot 10^5(0,4)^0 = 400\,000$ eleitores

b) $Af(t) = B(t) \Leftrightarrow 2 \cdot 10^5(1,6)^t = 4 \cdot 10^5(0,4)^t$

$$\left(\frac{1,6}{0,4}\right)^t = \frac{4 \cdot 10^5}{2 \cdot 10^5} \rightarrow 4^t = 2 \rightarrow t = \frac{1}{2} \rightarrow t = 6 \text{ meses}$$

$$c) \frac{A\left(\frac{3}{4}\right)}{B\left(\frac{3}{4}\right)} = \frac{2 \cdot 10^5(1,6)^{\frac{3}{4}}}{4 \cdot 10^5(0,4)^{\frac{3}{4}}} = \frac{1}{2} 4^{\frac{3}{4}} = \frac{\sqrt[4]{8}}{2} = \frac{2\sqrt{2}}{2} = \sqrt{2} > 1$$

18 (UFSM-RS) A solução da equação exponencial $5^x(5^x - 1) = 20$:

- pertence ao intervalo $(-\infty, -3[$
- pertence ao intervalo $]4, +\infty)$
- c) pertence ao intervalo $]0, 2[$
- é um número par
- é um número irracional

Substituindo $5^x = y$, vem:

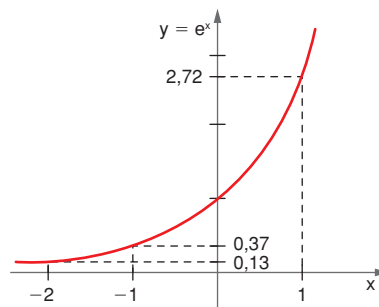
$$y(y - 1) = 20 \rightarrow y^2 - y - 20 = 0 \begin{cases} y_1 = 5 \\ y_2 = -4 \end{cases}$$

Se $y = 5 \rightarrow 5^x = 5 \rightarrow x = 1$

Se $y = -4 \rightarrow 5^x = -4 \rightarrow \nexists x \in \mathbb{R}$

Como $x = 1$, pertence ao intervalo $]0, 2[$

19 (UERJ) Uma empresa acompanha a produção diária de um funcionário recém-admitido, utilizando uma função $f(d)$, cujo valor corresponde ao número mínimo de peças que a empresa espera que ele produza em cada dia (d), a partir da data de sua admissão. Considere o gráfico auxiliar abaixo, que representa a função $y = e^x$.



Utilizando $f(d) = 100 - 100 \cdot e^{-0,2d}$ e o gráfico acima, a empresa pode prever que o funcionário alcançará a produção de 87 peças num mesmo dia, quando d for igual a:

- 5
- b) 10
- 15
- 20

Pelos dados, temos:

$$f(d) = 87 \rightarrow 100 - 100 \cdot e^{-0,2d} = 87 \\ e^{-0,2d} = 0,13$$

Pelo gráfico, temos $e^{-2} = 0,13$. Logo:

$$e^{-0,2d} = e^{-2} \rightarrow -0,2d = -2 \\ d = \frac{-2}{-0,2} \\ d = 10 \text{ dias}$$

20 (UFF-RJ) Em um meio de cultura especial, a quantidade de bactérias, em bilhões, é dada pela função Q definida, para $t \geq 0$, por $Q(t) = k5^{kt}$, sendo t o tempo, em minuto, e k uma constante.

A quantidade de bactérias, cuja contagem inicia-se com o cálculo de $Q(0)$, torna-se, no quarto minuto, igual a $25Q(0)$. Assinale a opção que indica quantos bilhões de bactérias estão presentes nesse meio de cultura no oitavo minuto.

- 12,5
- 25
- c) 312,5
- 625
- 1 000

Pelos dados, temos:

$$\text{se } t = 0 \rightarrow Q(0) = k \cdot 5^0 = k$$

$$\text{se } t = 4 \rightarrow Q(4) = k \cdot 5^{4k}$$

Como $Q(4) = 25 \cdot Q(0)$, vem:

$$k \cdot 5^{4k} = 25 \cdot k \rightarrow 5^{4k} = 25$$

$$5^{4k} = 5^2$$

$$4k = 2$$

$$k = \frac{1}{2}$$

$$\text{Portanto: } Q(8) = \frac{1}{2} \cdot 5^{\frac{1}{2} \cdot 8} \rightarrow Q(8) = \frac{1}{2} \cdot 5^4$$

$$Q(8) = 312,5$$

21 (UMC-SP) O crescimento de uma cultura de bactérias obedece à função $N(t) = 600 \cdot 3^{kt}$, em que N é o número de bactérias no instante t , sendo t o tempo em horas. A produção tem início em $t = 0$. Decorridas 12 horas há um total de 1 800 bactérias. O valor de k e o número de bactérias, após 24 horas do início da produção, são, respectivamente:

- a) $\frac{1}{12}$ e 3 600 d) 12 e 5 400
 b) $-\frac{1}{12}$ e -100 x e) $\frac{1}{12}$ e 5 400
 c) $-\frac{1}{12}$ e 64

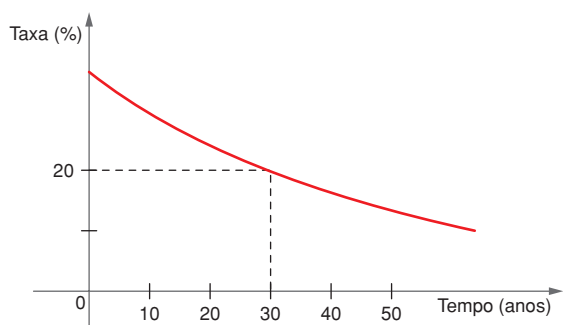
Quando $t = 12$ h, temos:

$$1\ 800 = 600 \cdot 3^{k \cdot 12} \rightarrow 3^{12k} = 3 \rightarrow 12k = 1 \rightarrow k = \frac{1}{12}$$

Quando $t = 24$ h, obtemos:

$$N(24) = 600 \cdot 3^{\frac{1}{12} \cdot 24} \rightarrow N(t) = 600 \cdot 3^2 \rightarrow N(t) = 5\ 400 \text{ bactérias}$$

22 (UNI-RIO/Ence-RJ) Conforme dados obtidos pelo IBGE, relativos às taxas de analfabetismo da população brasileira de 15 anos ou mais, a partir de 1960, foi possível ajustar uma curva de equação $y = 30k^x + 10$, onde $k > 0$, representada a seguir:



- a) Determine o valor de k .
 b) Obtenha as taxas relativas aos anos de 1960 e 2020 (valor estimado), usando o gráfico e a equação anterior.

a) Sendo $x = 30$ e $y = 20$, temos:

$$20 = 30 \cdot k^{30} + 10 \rightarrow k^{30} = \frac{1}{3} \rightarrow k = \left(\frac{1}{3}\right)^{\frac{1}{30}} = \sqrt[30]{\frac{1}{3}}$$

b) O ano de 1960 corresponde a $x = 0$. Logo:

$$y = 30 \cdot \left[\left(\frac{1}{3}\right)^{\frac{1}{30}}\right]^0 + 10 \rightarrow y = 30 \cdot 1 + 10 \rightarrow y = 40\%$$

O ano de 2020 corresponde a $2020 - 1960 = 60$. Logo:

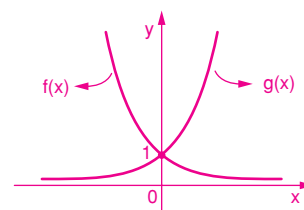
$$y = 30 \cdot \left[\left(\frac{1}{3}\right)^{\frac{1}{30}}\right]^{60} + 10 \rightarrow y = 30 \cdot \left(\frac{1}{3}\right)^2 + 10 \rightarrow y = \frac{40}{3} \approx 13,33\%$$

23 (UEPG-PR) Dadas as funções definidas por

$$f(x) = \left(\frac{4}{5}\right)^x \text{ e } g(x) = \left(\frac{5}{4}\right)^x, \text{ é correto afirmar que:}$$

- (01) os gráficos de $f(x)$ e $g(x)$ não se interceptam.
 (02) $f(x)$ é crescente e $g(x)$ é decrescente.
 (04) $g(-2) \cdot f(-1) = f(1)$
 (08) $f[g(0)] = f(1)$
 (16) $f(-1) + g(1) = \frac{5}{2}$

Fazendo o gráfico das funções, temos:



(01) Falso, pois os gráficos se interceptam em:

$$\left(\frac{4}{5}\right)^x = \left(\frac{5}{4}\right)^x \rightarrow \left(\frac{4}{5}\right)^x = \left[\left(\frac{4}{5}\right)^x\right]^{-1}$$

$$\text{Substituindo: } \left(\frac{4}{5}\right)^x = y, \text{ vem:}$$

$$y = y^{-1} \rightarrow y = \frac{1}{y}$$

$$y^2 = 1$$

$$y = \pm 1$$

$$\text{Se } y = 1 \rightarrow \left(\frac{4}{5}\right)^x = 1$$

$$\text{Se } y = -1 \rightarrow \left(\frac{4}{5}\right)^x = -1$$

$$\left(\frac{4}{5}\right)^x = \left(\frac{4}{5}\right)^0$$

$$\nexists x \in \mathbb{R}$$

$$x = 0$$

Os gráficos se interceptam em $(0, 1)$.

(02) Falso, pois $f(x)$ é decrescente e $g(x)$ é crescente.

$$(04) g(-2) = \left(\frac{5}{4}\right)^{-2} = \frac{1}{\left(\frac{5}{4}\right)^2} = \frac{16}{25}$$

$$f(-1) = \left(\frac{4}{5}\right)^{-1} = \frac{1}{\left(\frac{4}{5}\right)} = \frac{5}{4}$$

$$f(1) = \left(\frac{4}{5}\right)^1 = \frac{4}{5}$$

$$\text{Logo: } g(-2) \cdot f(-1) = \frac{16}{25} \cdot \frac{5}{4} = \frac{4}{5} = f(1)$$

A proposição é verdadeira.

$$(08) g(0) = \left(\frac{5}{4}\right)^0 = 1$$

$$f(1) = \left(\frac{4}{5}\right)^1 = \frac{4}{5}$$

A proposição é verdadeira.

$$(16) g(1) = \left(\frac{5}{4}\right)^1 = \frac{5}{4}$$

Logo:

$$f(-1) + g(1) = \frac{5}{4} + \frac{5}{4} = \frac{10}{4} = \frac{5}{2}$$

A proposição é verdadeira.

Portanto: $04 + 08 + 16 = 28$

24 (Unicamp-SP) Suponha que o número de indivíduos de uma determinada população seja dado pela função: $F(t) = a \cdot 2^{-bt}$, onde a variável t é dada em anos e a e b são constantes.

- a) Encontre as constantes a e b de modo que a população inicial ($t = 0$) seja igual a 1 024 indivíduos e a população após 10 anos seja a metade da população inicial.
- b) Qual o tempo mínimo para que a população se reduza a $\frac{1}{8}$ da população inicial?
- c) Esboce o gráfico da função $F(t)$ para $t \in [0, 40]$.

Pelos dados do exercício, temos:

a) Para $t = 0 \rightarrow F(0) = a \cdot 2^{-b \cdot 0} = 1\,024 \rightarrow a = 1\,024$ ①

Para $t = 10 \rightarrow F(10) \rightarrow a \cdot 2^{-b \cdot 10} = \frac{1\,024}{2} = 512$ ②

Substituindo ① em ②, vem:

$$1\,024 \cdot 2^{-10b} = 512 \rightarrow 2^{-10b} = 2^{-1} \rightarrow b = \frac{1}{10}$$

b) Pelos dados, temos $F(t) = \frac{1}{8} \cdot 1\,024 = 128$

$$1\,024 \cdot 2^{-\frac{1}{10}t} = 128$$

$$2^{-\frac{1}{10}t} = \frac{1}{8} = 2^{-3}$$

$$-\frac{t}{10} = -3$$

$$t = 30 \text{ anos}$$

c) Pelos dados, temos:

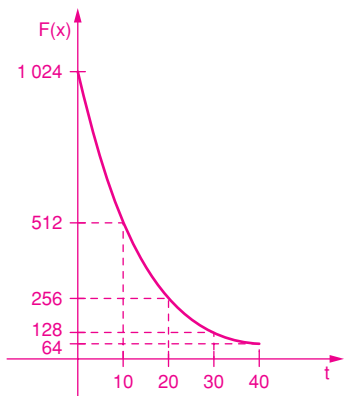
$$F(0) = 1\,024$$

$$F(10) = 1\,024 \cdot 2^{-\frac{1}{10} \cdot 10} = 512$$

$$F(20) = 1\,024 \cdot 2^{-\frac{1}{10} \cdot 20} = 256$$

$$F(40) = 1\,024 \cdot 2^{-\frac{1}{10} \cdot 40} = 64$$

O gráfico de $F(t)$ no intervalo $[0, 40]$ é:



25 (UFCE) Sejam f e g funções reais de variável real definidas por $f(x) = \frac{17}{2^x + 1}$ e $g(x) = 3 + 2x - x^2$. O valor mínimo de $f(g(x))$ é:

- a) $\frac{1}{4}$ b) $\frac{1}{3}$ c) $\frac{1}{2}$ x d) 1 e) 2

Temos $f(g(x)) = \frac{17}{2^{g(x)} + 1}$. Assim, quanto maior for o valor de $2^{g(x)} + 1$, menor

será o valor de $f(g(x))$. Logo $f(g(x))$ assumirá um valor mínimo quando $2^{g(x)} + 1$ assumir um valor máximo, o que ocorrerá quando $g(x)$ assumir um valor máximo. Como $g(x) = 3 + 2x - x^2$, trata-se de uma função quadrática e, como o coeficiente de x^2 é negativo, seu gráfico é uma parábola com concavidade para baixo e, portanto, ela assumirá um valor máximo, o qual ocorrerá quando o valor de x for igual à abscissa do vértice, isto

é, quando $x = \frac{-2}{2 \cdot (-1)} = 1$. Assim $g(1)$ é o valor máximo assumido pela

função g e, portanto, o valor mínimo da composta será

$$f(g(1)) = \frac{17}{2^{g(1)} + 1} = \frac{17}{2^4 + 1} = \frac{17}{17} = 1$$

26 (Unipac-MG) A relação $P = 32\,000 \cdot (1 - 2^{-0,1t})$ descreve o crescimento de uma população P de bactérias, t dias após o instante 0. O valor de P é superior a 31 000 se, e somente se, t satisfizer à condição:

- x a) $t > 50$ c) $t > 16$ e) $32 < t < 64$
b) $t < 30$ d) $2 < t < 16$

Devemos ter $P > 31\,000$. Logo:

$$\begin{aligned} 32\,000(1 - 2^{-0,1t}) > 31\,000 &\rightarrow 32(1 - 2^{-0,1t}) > 31 \\ 32 - 32 \cdot 2^{-0,1t} > 31 & \\ -32 \cdot 2^{-0,1t} > -1 & \\ 32 \cdot 2^{-0,1t} < 1 & \\ 2^{-0,1t} < \frac{1}{32} & \\ 2^{-0,1t} < 2^{-5} & \\ -0,1t < -5 & \\ t > 50 \text{ dias} & \end{aligned}$$

31 (ECM-AL) O conjunto de todos os valores de x para

os quais $1 \leq 4^{\frac{x}{4}} < 8^2$ é:

- x a) $[0, 12[$ c) $[0, 6[$ e) $[0, 3[$
 b) $[0, 8[$ d) $[0, 4[$

$$1 \leq 4^{\frac{x}{4}} < 8^2$$

$$\begin{cases} 4^{\frac{x}{4}} < 8^2 & \textcircled{1} \\ 4^{\frac{x}{4}} \geq 1 & \textcircled{2} \end{cases}$$

① $4^{\frac{x}{4}} < 8^2 \rightarrow (2^2)^{\frac{x}{4}} < (2^3)^2$

$$2^{\frac{x}{2}} < 2^6$$

$$\frac{x}{2} < 6$$

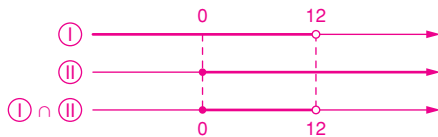
$$x < 12$$

② $4^{\frac{x}{4}} \geq 1 \rightarrow 4^{\frac{x}{4}} \geq 4^0$

$$\frac{x}{4} \geq 0$$

$$x \geq 0$$

Fazendo a intersecção, temos:



$S = \{x \in \mathbb{R} \mid 0 \leq x < 12\} = [0, 12[$

32 (UESPI) Seja S o conjunto solução da inequação

$$\left(\frac{3}{4}\right)^{3-x} > \left(\frac{4}{3}\right)^{2x+4} \quad . \text{Então:}$$

- a) $S = \mathbb{R}$ d) $S = \{x \in \mathbb{R} : x > 2\}$
 b) $S = \{x \in \mathbb{R} : x < 7\}$ e) $S = \{x \in \mathbb{R} : x < 1\}$
 x c) $S = \{x \in \mathbb{R} : x < -7\}$

$$\left(\frac{3}{4}\right)^{3-x} > \left(\frac{4}{3}\right)^{2x+4} \rightarrow \left(\frac{3}{4}\right)^{3-x} > \left(\frac{3}{4}\right)^{-2x-4}$$

$$3-x < -2x-4$$

$$-x+2x < -4-3$$

$$x < -7$$

33 (UFF-RJ)

a) Ao resolver uma questão, José apresentou o seguinte raciocínio:

“Como $\frac{1}{4} > \frac{1}{8}$ tem-se $\left(\frac{1}{2}\right)^2 > \left(\frac{1}{2}\right)^3$ e conclui-se que $2 > 3$.”

Identifique o erro que José cometeu em seu raciocínio, levando-o a essa conclusão absurda.

b) Sem cometer o mesmo erro que José, determine o menor número m , inteiro e positivo, que satisfaz à inequação:

$$\left(\frac{1}{2}\right)^{\frac{4}{m}} > \left(\frac{1}{4}\right)^{m+1}$$

a) José cometeu o erro na última etapa de seu raciocínio, uma vez que a função exponencial dada por $f(x) = \left(\frac{1}{2}\right)^x$ é decrescente, ou seja, à medida que aumentamos o valor de x , o valor de $f(x)$ diminui.

b) $\left(\frac{1}{2}\right)^{\frac{4}{m}} > \left(\frac{1}{4}\right)^{m+1} \rightarrow \left(\frac{1}{2}\right)^{\frac{4}{m}} > \left(\frac{1}{2}\right)^{2m+2}$

Como a base $\left(\frac{1}{2}\right)$ é um número compreendido entre zero e um, a função é decrescente e o sinal da desigualdade muda, ou seja:

$$\frac{4}{m} < 2m+2 \rightarrow \frac{4}{m} - 2m - 2 < 0$$

$$\frac{4 - 2m^2 - 2m}{m} < 0$$

$$\frac{2m^2 + 2m - 4}{m} > 0$$

$$\frac{2(m-1)(m+2)}{m} > 0$$

Como $m > 0$, temos $\frac{2(m-1)(m+2)}{m} > 0 \rightarrow (m-1)(m+2) > 0$,

ou seja, $m < -2$ ou $m > 1$.



Conclui-se que o menor número inteiro e positivo m que satisfaz a inequação é 2.