

MARINHA DO BRASIL
DIRETORIA DE ENSINO DA MARINHA

ESCOLAS DE

APRENDIZES-MARINHEIROS

(PSAEAM/2006)

PROFESSOR MARCOS JOSÉ

1) Um quadrado ABCD tem 64 cm de perímetro. Quanto mede o lado de um quadrado cujo perímetro é o dobro do perímetro do quadrado ABCD?

- (A) 8
- (B) 16
- (C) 18
- (D) 28
- (E) 32

Solução:

Perímetro = 64 cm → dobro = 128 cm

Perímetro de quadrado = 4L → 4L = 128 → L = 32 cm

RESPOSTA: E

2) Qual o valor de $m + n$ para que $(x^2 + mx) \cdot (x^2 - x) + nx^2$ seja igual a $x^4 - 3x^3 + 7x^2$? (Lembre-se, coeficientes de termos com o mesmo grau são iguais):

- (A) 5
- (B) 3
- (C) 2
- (D) - 3
- (E) - 7

Solução:

$$(x^2 + mx) \cdot (x^2 - x) + nx^2 = x^4 - x^3 + mx^3 - mx^2 + nx^2 = x^4 + x^3(m - 1) + x^2(n - m)$$

$$x^4 - 3x^3 + 7x^2$$

$$\begin{cases} m - 1 = -3 \\ n - m = 7 \end{cases} \rightarrow m = -2 \rightarrow n - (-2) = 7 \rightarrow n = 5$$

$$m + n = -2 + 5 = 3$$

RESPOSTA: B

3) Um percurso de 40 km é feito em 8 horas numa velocidade constante de 5 km/h. Se for aumentado o percurso em 20% e a velocidade em 60%, quantas horas será necessário para fazer o novo percurso?

- (A) 3
- (B) 6
- (C) 8
- (D) 12
- (E) 15

Solução:

$$40 + \frac{20}{100} \cdot 40 = 40 + 8 = 48km$$

$$5 + \frac{60}{100} \cdot 5 = 5 + 3 = 8km/h$$

Percurso	Tempo	Velocidade
40 km	8h	5km/h
48 km	t	8km/h

$$\frac{8}{t} = \frac{40}{48} \cdot \frac{8}{5} \rightarrow \frac{8}{t} = \frac{8}{6} \cdot \frac{1}{1} \rightarrow \frac{1}{t} = \frac{1}{6} \rightarrow t = 6h$$

RESPOSTA: B

4) $V = -3 \cdot (6 - x)$ é a expressão que representa as vendas de uma determinada mercadoria, onde x é a quantidade da mercadoria vendida. Com base nos dados apresentados é correto afirmar que a venda é positiva para

(A) qualquer que seja x .

(B) $x = 6$.

(C) x entre 3 e 6.

(D) $x < 6$.

(E) $x > 6$.

Solução:

$$\begin{cases} V = -3 \cdot (6 - x) \\ V > 0 \end{cases} \rightarrow -3 \cdot (6 - x) > 0 \rightarrow -18 + 3x > 0 \rightarrow 3x > 18 \rightarrow x > 6$$

RESPOSTA: E

5) Quantos números inteiros satisfazem simultaneamente as inequações

$$2 \cdot (2x + 3) + 5 > 1 \text{ e } 3 \cdot (-2 + x) - 2 < 1?$$

- (A) 2
- (B) 3
- (C) 4
- (D) 5
- (E) 6

Solução:

$$2 \cdot (2x + 3) + 5 > 1 \rightarrow 4x + 6 + 5 > 1 \rightarrow 4x > -10 \rightarrow x > -\frac{10}{4} \rightarrow x > -2,5$$

$$3 \cdot (-2 + x) - 2 < 1 \rightarrow -6 + 3x - 2 < 1 \rightarrow 3x < 9 \rightarrow x < 3$$

$$-2,5 < x < 3 \rightarrow \text{Inteiros} = \{-2, -1, 0, 1, 2\}$$

RESPOSTA: D

6) Reduza a uma só potência a expressão $(3^{-4} \cdot 9^4 : 3^{-6}) : (81 : 3^{-2})$.

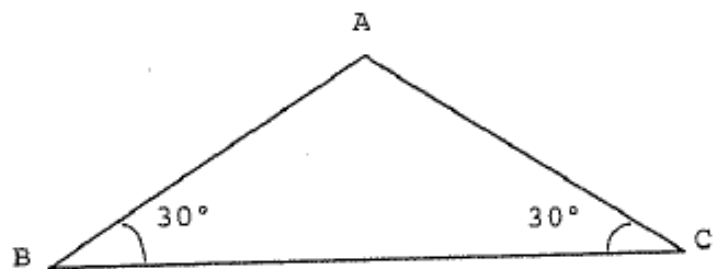
- (A) 3^2
- (B) 3^4
- (C) 3^6
- (D) 3^8
- (E) 3^{10}

Solução:

$$(3^{-4} \cdot (3^2)^4 : 3^{-6}) : (3^4 : 3^{-2}) \rightarrow (3^{-4} \cdot 3^8 : 3^{-6}) : (3^{4-(-2)}) \rightarrow (3^4 : 3^{-6}) : (3^6) \rightarrow 3^{4-(-6)} : 3^6 \rightarrow 3^{10} : 3^6 = 3^4$$

RESPOSTA: B

7)



Na figura acima, o segmento AB mede 2 cm. Qual o valor da área do triângulo ABC medidos em cm^2 ?

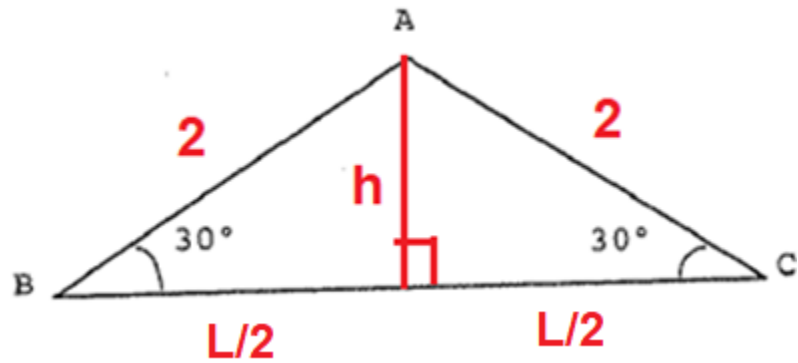
(A) $2\sqrt{3}$

(B) $\sqrt{3}$

(C) 4

(D) 2

(E) 1



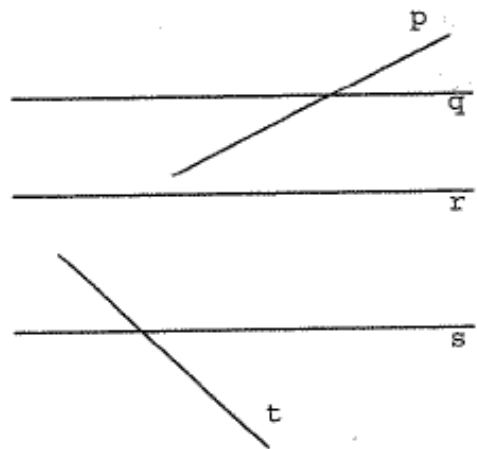
$$\text{sen}30^\circ = \frac{h}{2} \rightarrow \frac{1}{2} = \frac{h}{2} \rightarrow h = 1$$

$$\text{cos}30^\circ = \frac{\frac{L}{2}}{2} \rightarrow \frac{\sqrt{3}}{2} = \frac{L}{4} \rightarrow 2L = 4\sqrt{3} \rightarrow L = 2\sqrt{3}$$

$$A = \frac{L \cdot h}{2} \rightarrow A = \frac{2\sqrt{3} \cdot 1}{2} \rightarrow A = \sqrt{3} \text{cm}^2$$

RESPOSTA: B

8) Observe a figura abaixo: **(Adaptada)**



Dados:

Reta q paralela a r

Reta q paralela a s

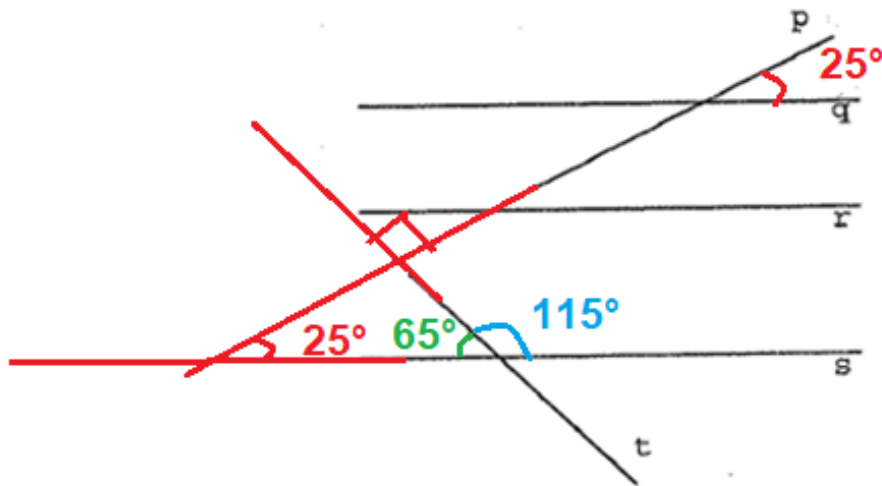
Reta p perpendicular a t

25° é o menor ângulo que a reta p

forma com a reta q

Com os dados apresentados, é correto afirmar que um dos ângulos que a reta t forma com a reta s é igual a

- (A) 55°
- (B) 75°
- (C) 85°
- (D) 110°
- (E) 115°



O ângulo entre as retas p e s é igual a 25° , pois é correspondente com o ângulo dado.

O menor ângulo entre as retas t e s é 65° , pois a soma dos ângulos do triângulo é 180° .

O maior ângulo entre as retas t e s é 115° , pois é o suplemento de 65° .

RESPOSTA: E

9) O lado de um losango mede $2\sqrt{5}$ cm. A diagonal menor é a metade da maior. Qual o valor da soma das diagonais em centímetros?

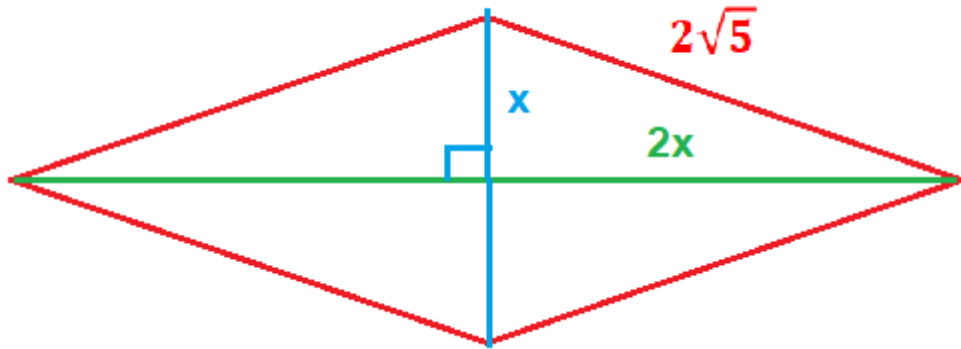
(A) 3

(B) 6

(C) 10

(D) 12

(E) $6\sqrt{2}$



$$x^2 + (2x)^2 = (2\sqrt{5})^2 \rightarrow x^2 + 4x^2 = 20 \rightarrow 5x^2 = 20 \rightarrow x^2 = 4 \rightarrow x = 2$$

$$\text{Diagonal menor} = d = 2x = 2 \cdot 2 = 4$$

$$\text{Diagonal maior} = D = 2 \cdot 2x = 4 \cdot 2 = 8$$

$$\text{Soma} = 4 + 8 = 12$$

RESPOSTA: D

10) Sendo $a = \sqrt{6} + 1$ e $b = \frac{1}{\sqrt{2}} + \sqrt{3}$, qual o valor de $a^2 + b^2$?

(A) $\frac{21}{2} + 3\sqrt{6}$

(B) $\frac{21 + 3\sqrt{6}}{2}$

(C) $\frac{11}{2} + 3\sqrt{6}$

(D) $11 + 3\sqrt{6}$

(E) $\frac{11}{2}$

Solução:

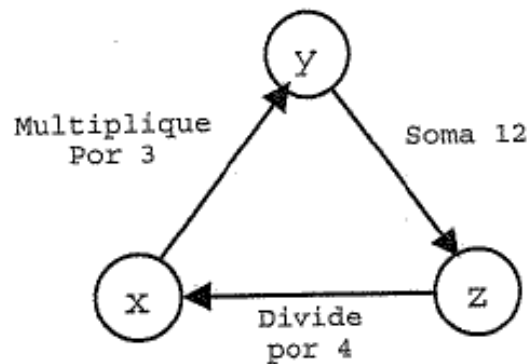
$$a^2 = (\sqrt{6} + 1)^2 \rightarrow a^2 = 6 + 2\sqrt{6} + 1 \rightarrow a^2 = 2\sqrt{6} + 7$$

$$b^2 = \left(\frac{1}{\sqrt{2}} + \sqrt{3}\right)^2 \rightarrow b^2 = \frac{1}{2} + 2 \cdot \frac{1}{\sqrt{2}} \cdot \sqrt{3} + 3 \rightarrow b^2 = \frac{7}{2} + \frac{2\sqrt{3}}{\sqrt{2}}$$

$$a^2 + b^2 = 2\sqrt{6} + 7 + \frac{7}{2} + \frac{2\sqrt{3}}{\sqrt{2}} \times \frac{\sqrt{2}}{\sqrt{2}} \rightarrow a^2 + b^2 = 2\sqrt{6} + \frac{21}{2} + \frac{2\sqrt{6}}{2} \rightarrow a^2 + b^2 = 3\sqrt{6} + \frac{21}{2}$$

RESPOSTA: A

11) Observe o circuito abaixo, onde x , y e z são números inteiros.



Respeitando as indicações das três setas deste circuito, determine o valor de $x + y$ e assinale a opção correta.

- (A) 24
- (B) 42
- (C) 48
- (D) 60
- (E) 84

Solução:

$$\left\{ \begin{array}{l} y = 3x \\ y + 12 = z \\ \frac{z}{4} = x \rightarrow z = 4x \end{array} \right. \rightarrow 3x + 12 = 4x \rightarrow 12 = x \rightarrow y = 3x \rightarrow y = 36$$

$$x + y = 12 + 36 = 48$$

RESPOSTA: C

12) (Adaptada) Dadas as proporções $\frac{2}{x+3} = \frac{3}{2x+4}$ e $\frac{y+16}{2y+2} = 3$,

calcule o valor de $y - x$ e assinale a opção correta

- (A) - 4
- (B) - 2
- (C) 0
- (D) 1
- (E) 9

Solução:

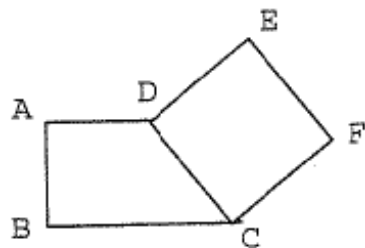
$$\frac{2}{x+3} = \frac{3}{2x+4} \rightarrow 4x + 8 = 3x + 9 \rightarrow x = 1$$

$$\frac{y+16}{2y+2} = 3 \rightarrow y + 16 = 6y + 6 \rightarrow 10 = 5y \rightarrow y = 2$$

$$y - x = 2 - 1 = 1$$

RESPOSTA: D

13) Observe a figura.



Nela, ABCD é um trapézio e CDEF, um quadrado. Sabendo que $\overline{AB} = \overline{AD} = x$ e $\overline{BC} = x + 3$, qual a expressão que representa a área da figura?

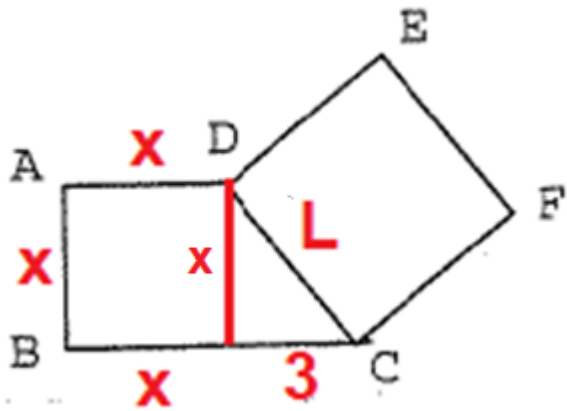
(A) $\frac{4x^2 + 3x + 6}{2}$

(B) $\frac{4x^2 + 15x + 18}{2}$

(C) $\frac{4x^2 + 3x + 18}{2}$

(D) $\frac{20x^2 + 3x}{2}$

(E) $\frac{8x^2 + 3x}{2}$



$$L^2 = x^2 + 3^2 \rightarrow L^2 = x^2 + 9 \rightarrow A_{\text{Quadrado}} = L^2 \rightarrow A_{\text{Quadrado}} = x^2 + 9$$

$$A_{\text{Trapézio}} = \frac{(B + b) \cdot h}{2} = \frac{(x + 3 + x) \cdot x}{2} = \frac{(2x + 3) \cdot x}{2} = \frac{2x^2 + 3x}{2}$$

$$A_{\text{Figura}} = \frac{2x^2 + 3x}{2} + x^2 + 9 = \frac{2x^2 + 3x + 2x^2 + 18}{2} = \frac{4x^2 + 3x + 18}{2}$$

RESPOSTA: C

14) Assinale a opção que apresenta a equação que possui raízes reais distintas.

Solução:

(A) $2x^2 + 6x = 20$

(B) $3x^2 - 12x = -12$

(C) $-x^2 + 5x = 10$

(D) $-2x^2 - 12x = 18$

(E) $x^2 + 4 = 0$

Para a equação ter raízes reais e distintas, o discriminante Δ tem que ser positivo.

(A) $2x^2 + 6x = 20 \rightarrow 2x^2 + 6x - 20 = 0 \rightarrow x^2 + 3x - 10 = 0 \rightarrow \Delta = 3^2 - 4 \cdot 1 \cdot (-10) = 49 \rightarrow Verdadeiro$

(B) $3x^2 - 12x + 12 = 0 \rightarrow x^2 - 4x + 4 = 0 \rightarrow \Delta = (-4)^2 - 4 \cdot 1 \cdot 4 = 0 \rightarrow Raízes reais e iguais \rightarrow Falso$

(C) $-x^2 + 5x - 10 = 0 \rightarrow x^2 - 5x + 10 = 0 \rightarrow \Delta = (-5)^2 - 4 \cdot 1 \cdot 10 = -15 \rightarrow Não tem raiz real \rightarrow Falso$

(D) $-2x^2 - 12x - 18 = 0 \rightarrow x^2 + 6x + 9 = 0 \rightarrow \Delta = 6^2 - 4 \cdot 1 \cdot 9 = 0 \rightarrow Raízes reais e iguais \rightarrow Falso$

(E) $x^2 + 4 = 0 \rightarrow \Delta = 0^2 - 4 \cdot 1 \cdot 4 = -16 \rightarrow Não tem raiz real \rightarrow Falso$

RESPOSTA: A

15) Numa determinada "festinha", alguns rapazes compraram 5 salgados e 3 refrigerantes pagando R\$ 13,00. Numa outra rodada, ao chegarem mais amigos, compraram 4 salgados e 4 refrigerantes pagando R\$ 12,00.

Com base nos dados apresentados, quanto deveriam pagar na compra de 2 salgados e 1 refrigerante?

Solução:

- (A) R\$ 3,00
- (B) R\$ 4,00
- (C) R\$ 5,00
- (D) R\$ 6,00
- (E) R\$ 7,00

Considere $\rightarrow \begin{cases} \text{salgado} = x \\ \text{refrigerante} = y \end{cases}$

$$\begin{cases} 5x + 3y = 13 \\ 4x + 4y = 12 \end{cases} \rightarrow \begin{cases} 5x + 3y = 13 \\ x + y = 3 \end{cases} \rightarrow \begin{cases} 5x + 3y = 13 \\ -3x - 3y = -9 \end{cases} \rightarrow 2x = 4 \rightarrow x = 2 \rightarrow 2 + y = 3 \rightarrow y = 1$$

$$2 \text{ salgados} + 1 \text{ refrigerante} \rightarrow 2x + y = 2 \cdot 2 + 1 = 5$$

RESPOSTA: C