

**MARINHA DO BRASIL**  
**SERVIÇO DE SELEÇÃO DO PESSOAL DA MARINHA**

***CONCURSO PÚBLICO DE ADMISSÃO ÀS ESCOLAS  
DE APRENDIZES-MARINHEIROS (CPAEAM/2023)***

**PROFESSOR MARCOS JOSÉ**

### QUESTÃO 16

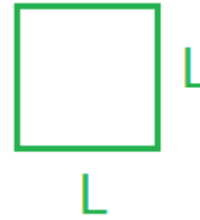
O chão da Sala de Estado da EAMCE é retangular e suas dimensões são 3,52 m e 4,16 m. Esse chão será revestido com pisos quadrados, de dimensões iguais, inteiros, de forma que não fiquem espaços vazios entre pisos vizinhos. Os pisos serão escolhidos de modo que tenham a maior dimensão possível. Com base nessa situação, assinale a opção que apresenta o intervalo que contém a medida do lado do piso ideal.

- (A) Menos de 15 cm.
- (B) Mais de 15 cm e menos de 20 cm.
- (C) Mais de 20 cm e menos de 25 cm.
- (D) Mais de 25 cm e menos de 30 cm.
- (E) Mais de 30 cm.



$$3,52 \text{ m} = 352 \text{ cm}$$

$$4,16 \text{ m} = 416 \text{ cm}$$



*Os pisos, quadrados, terão a maior dimensão possível.*

*Logo, o enunciado quer o maior número possível que divida 352 e 416.*

*Trata – se, portanto, do mdc entre 352 e 416.  $L = \text{mdc}(352, 416)$*

352	416	2
176	208	2
88	104	2
44	52	2
22	26	2
11	13	

$$L = \text{mdc}(352, 416) = 2 \times 2 \times 2 \times 2 \times 2 = 32$$

***RESPOSTA: E***

### QUESTÃO 17

Miguelito e Ditão são dois integrantes de um seletto grupo de vinte tricolores. Será formada uma comissão de cinco pessoas entre seus membros para organizar a festa de confraternização do grupo. Com base nessas informações, assinale a opção que indica de quantas maneiras distintas essa comissão poderá ser formada, de modo que apenas um deles esteja presente.

- (A) 9.180
- (B) 6.120
- (C) 5.400
- (D) 4.590
- (E) 3.060




**Solução 2:**

***Irei, agora, fazer o total menos os casos em que os dois estão nas comissões (não pode) e os dois não estão nas comissões (também não pode).***

Miguelito = M

Ditão = D



$$R = C_{20,5} - C_{18,3} - C_{18,5} \rightarrow R = \frac{20!}{15! \cdot 5!} - \frac{18!}{15! \cdot 3!} - \frac{18!}{13! \cdot 5!}$$

$$R = \frac{20 \cdot 19 \cdot 18 \cdot 17 \cdot 16}{5 \cdot 4 \cdot 3 \cdot 2 \cdot 1} - \frac{18 \cdot 17 \cdot 16}{3 \cdot 2 \cdot 1} - \frac{18 \cdot 17 \cdot 16 \cdot 15 \cdot 14}{5 \cdot 4 \cdot 3 \cdot 2 \cdot 1}$$

$$R = 15504 - 816 - 8568 \rightarrow R = 6120$$

***RESPOSTA: B***

### QUESTÃO 18

Em um exercício da Marinha do Brasil, cinco navios estavam posicionados nos vértices de um pentágono regular imaginário. Assinale a opção que indica a maior distância entre dois desses navios, sabendo que a menor distância entre dois navios mais próximos é 100 milhas marítimas.

Dados:

$$\sqrt{2} = 1,41;$$

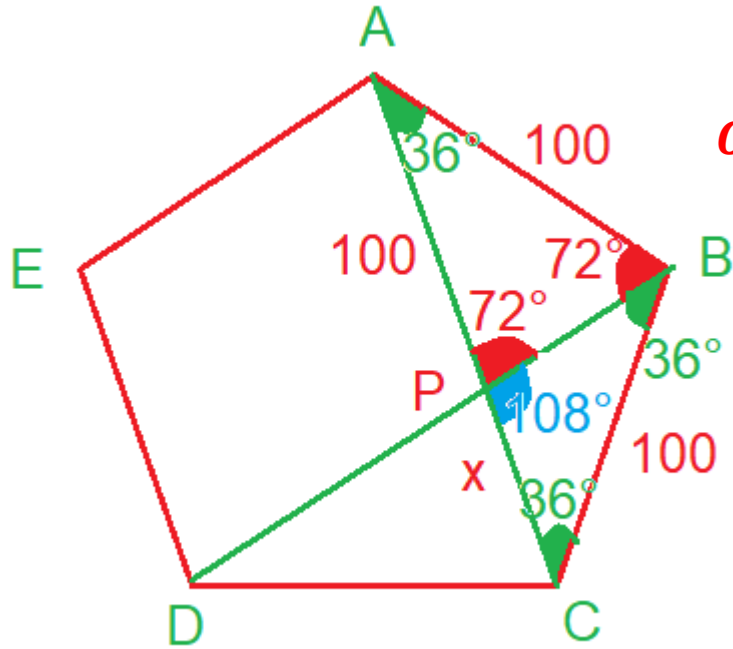
$$\sqrt{3} = 1,73;$$

$$\sqrt{5} = 2,24.$$

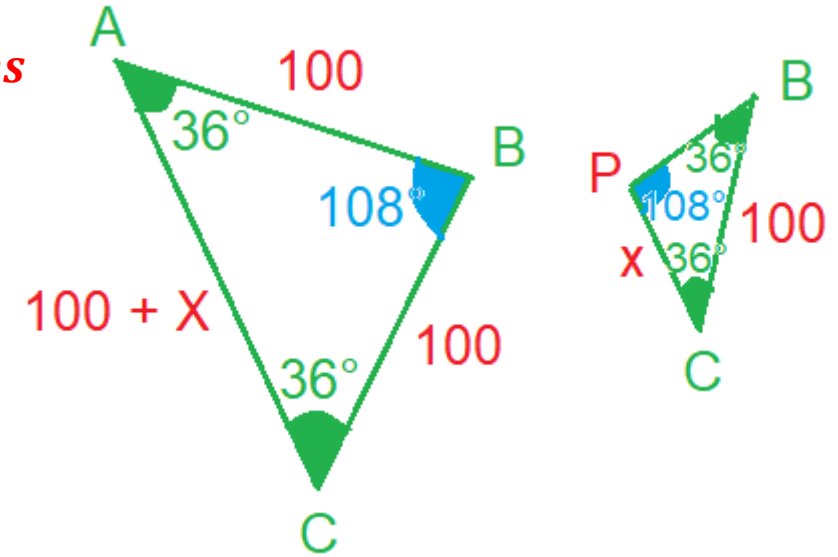
- (A) 122 milhas marítimas.
- (B) 132 milhas marítimas.
- (C) 142 milhas marítimas.
- (D) 152 milhas marítimas.
- (E) 162 milhas marítimas.



**Solução 1:**



*Os triângulos ABC e PBC são semelhantes*



$$\frac{100 + x}{100} = \frac{100}{x} \rightarrow 100x + x^2 = 10000 \rightarrow x^2 + 100x - 10000 = 0$$

$$x = \frac{-100 \pm \sqrt{(-100)^2 - 4 \cdot 1 \cdot (-10000)}}{2} \rightarrow x = \frac{-100 \pm \sqrt{50000}}{2} \rightarrow x = \frac{-100 \pm 100\sqrt{5}}{2}$$

$$x = \frac{-100 + 100 \cdot 2,24}{2} = \frac{124}{2} = 62$$

$$d = AC = 100 + x \rightarrow d = 100 + 62 = 162$$

**RESPOSTA: E**

**Solução 2:**

Figura 1

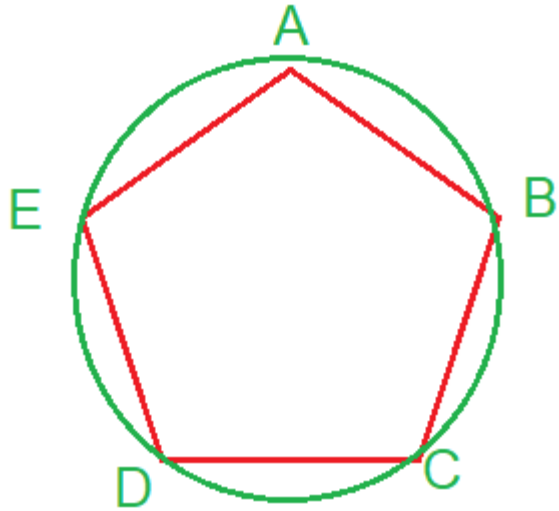
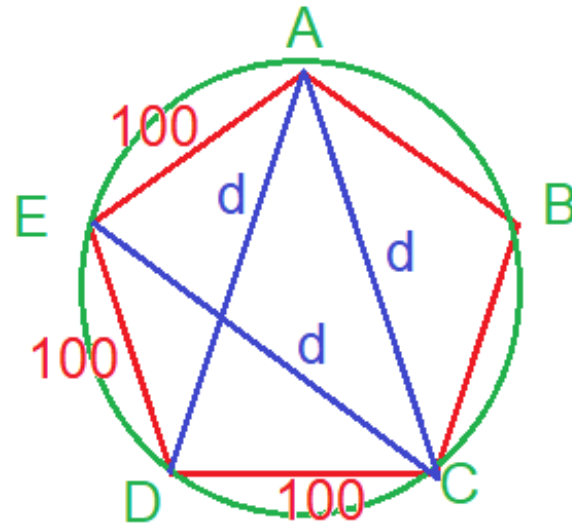


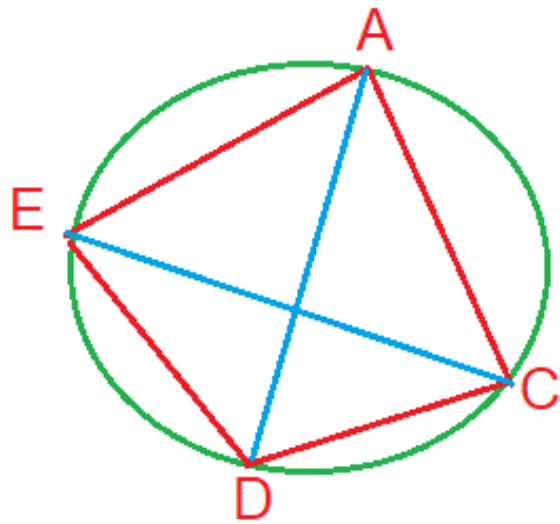
Figura 2



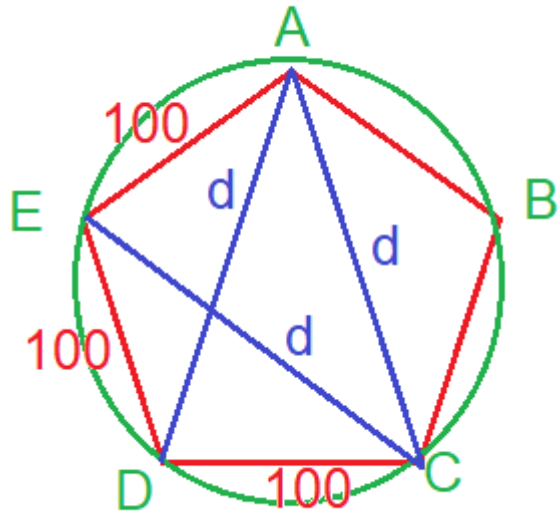
*Na figura 2 acima, o quadrilátero ACDE está inscrito numa circunferência.*

*Nos quadriláteros inscritíveis, vale o Teorema de Ptolomeu.*

*Teorema de Ptolomeu: Num quadrilátero qualquer inscrito numa circunferência, a soma dos produtos dos lados opostos é igual ao produto das diagonais.*



$$AE \cdot CD + ED \cdot AC = EC \cdot AD$$



*Ptolomeu* →  $100 \cdot 100 + 100 \cdot d = d \cdot d \rightarrow d^2 - 100d - 10000 = 0$

$$d = \frac{-(-100) \pm \sqrt{(-100)^2 - 4 \cdot 1 \cdot (-10000)}}{2 \cdot 1} \rightarrow d = \frac{100 \pm \sqrt{10000 + 40000}}{2} \rightarrow d = \frac{100 \pm \sqrt{50000}}{2}$$

$$d = \frac{100 \pm 100\sqrt{5}}{2} \rightarrow d = \frac{100 + 100 \cdot 2,24}{2} \rightarrow d = \frac{324}{2} = 162 \text{ milhas}$$

**RESPOSTA: E**

### QUESTÃO 19

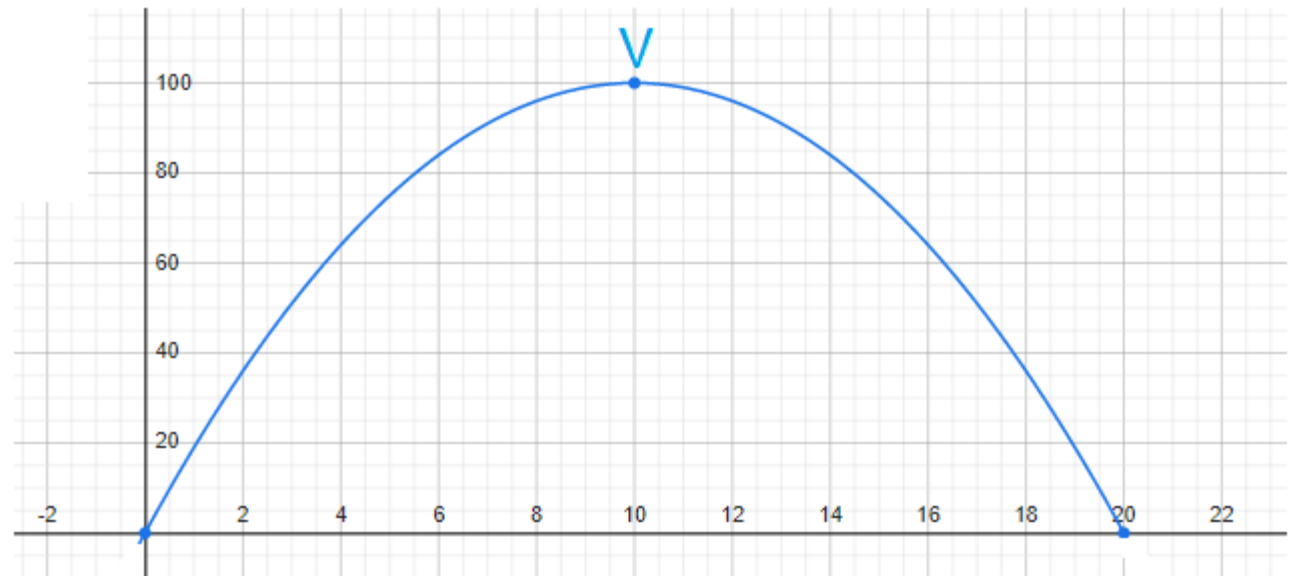
Durante um exercício naval, a Fragata Constituição lançou um míssil antinavio de superfície (MANSUP), cuja trajetória foi determinada pela parábola de equação cartesiana  $y = -x^2 + 20x$ , na qual "y" representa a altura do míssil e "x", o tempo ocorrido após o lançamento. Do mesmo ponto do lançamento do MANSUP, outro míssil foi lançado, a fim de interceptá-lo no ponto mais alto da sua trajetória. Sabendo que a trajetória do segundo míssil foi retilínea, assinale a opção que apresenta a equação cartesiana dessa trajetória.

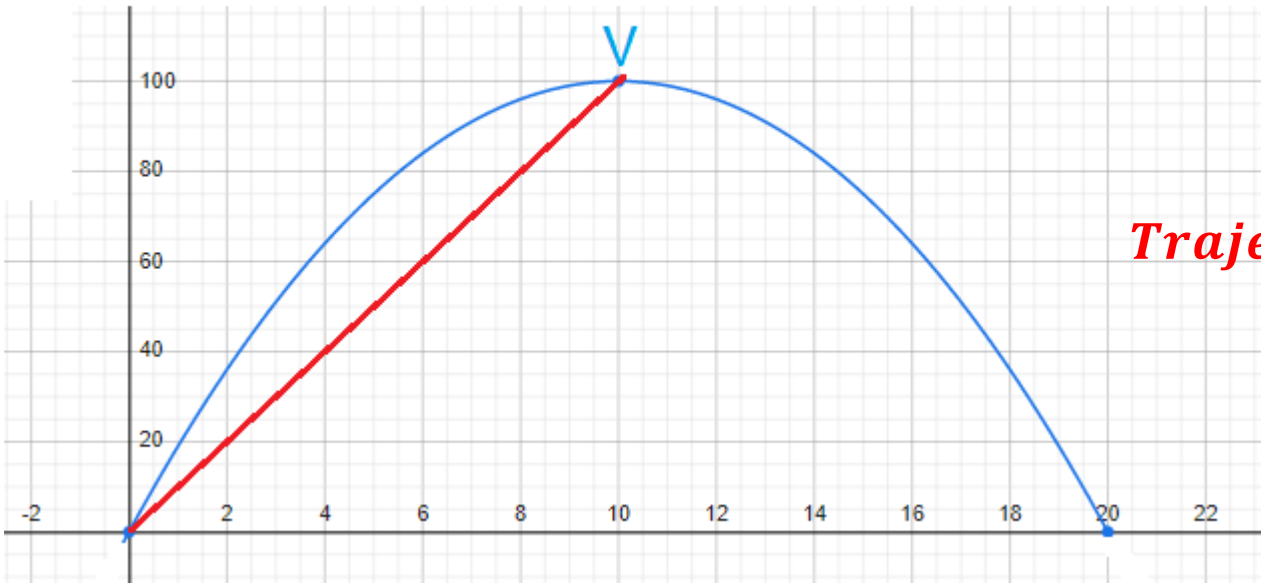
- (A)  $y = x$
- (B)  $y = 5x$
- (C)  $y = 10x$
- (D)  $y = 15x$
- (E)  $y = 20x$

$y = -x^2 + 20x \rightarrow$  gráfico é uma parábola com a concavidade para baixo

**Raízes**  $\rightarrow -x^2 + 20x = 0 \rightarrow x(-x + 20) = 0 \rightarrow x_1 = 0$  e  $x_2 = 20$

**Coordenadas do vértice**  $\rightarrow$  
$$\begin{cases} x_V = -\frac{b}{2a} = -\frac{20}{-2} = 10 \\ y_V = -\frac{\Delta}{4a} = -\frac{400 - 0}{-4} = 100 \end{cases}$$





*Trajectoria retilínea* → *Função Afim* →  $y = ax + b$

*Como a reta passa pela origem* →  $b = 0$  →  $y = ax$

$$V = (10, 100) \rightarrow 100 = 10a \rightarrow a = 10$$

$$y = 10x$$

**RESPOSTA: C**

## QUESTÃO 20

A taxa de crescimento da população de uma colônia de bactérias é de 2% ao mês. Assinale a opção que indica o intervalo de tempo em que o número de bactérias dessa colônia dobra.

Dados:

$$\log 0,2 = -0,70;$$

$$\log 2 = 0,30;$$

$$\log 1,2 = 0,08; \text{ e}$$

$$\log 1,02 = 0,008.$$

- (A) Durante o 35º mês após o início da observação.
- (B) Durante o 36º mês após o início da observação.
- (C) Durante o 37º mês após o início da observação.
- (D) Durante o 38º mês após o início da observação.
- (E) Durante o 39º mês após o início da observação.



$$P = P_0 \cdot (1 + i)^t \rightarrow 2P_0 = P_0 \cdot \left(1 + \frac{2}{100}\right)^t \rightarrow 2 = (1,02)^t$$

$$\log 2 = \log 1,02^t \rightarrow \log 2 = t \cdot \log 1,02$$

$$0,30 = t \cdot 0,008 \rightarrow t = \frac{0,30}{0,008} \rightarrow t = \frac{300}{8} \rightarrow t = 37,5 \text{ meses}$$

*Agora temos que tomar cuidado! Por exemplo, se  $t = 1,5$  meses, significa que passou 1 mês e já estamos no segundo mês. Portanto, 37,5 meses, significa que já entrou no 38º mês.*

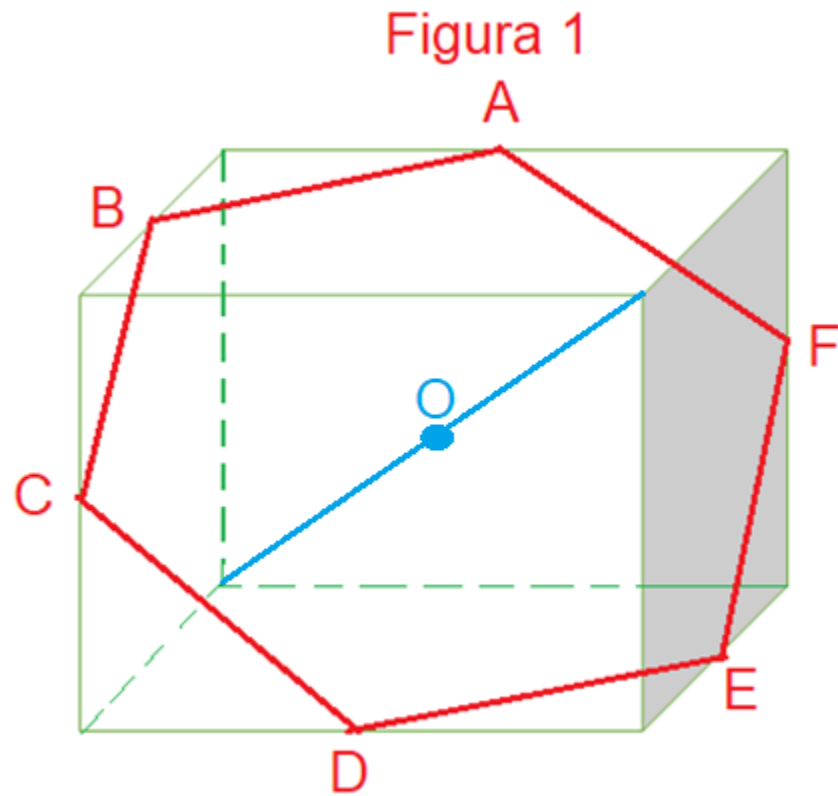
**RESPOSTA: D**

### QUESTÃO 21

Pelo ponto médio da diagonal de um cubo de aresta 2 cm foi traçado um plano perpendicular a essa diagonal. Assinale a opção que apresenta a área da figura plana obtida pela interseção desse plano com as faces do cubo.

- (A)  $\sqrt{3} \text{ cm}^2$
- (B)  $2\sqrt{3} \text{ cm}^2$
- (C)  $3\sqrt{3} \text{ cm}^2$
- (D)  $4\sqrt{3} \text{ cm}^2$
- (E)  $5\sqrt{3} \text{ cm}^2$

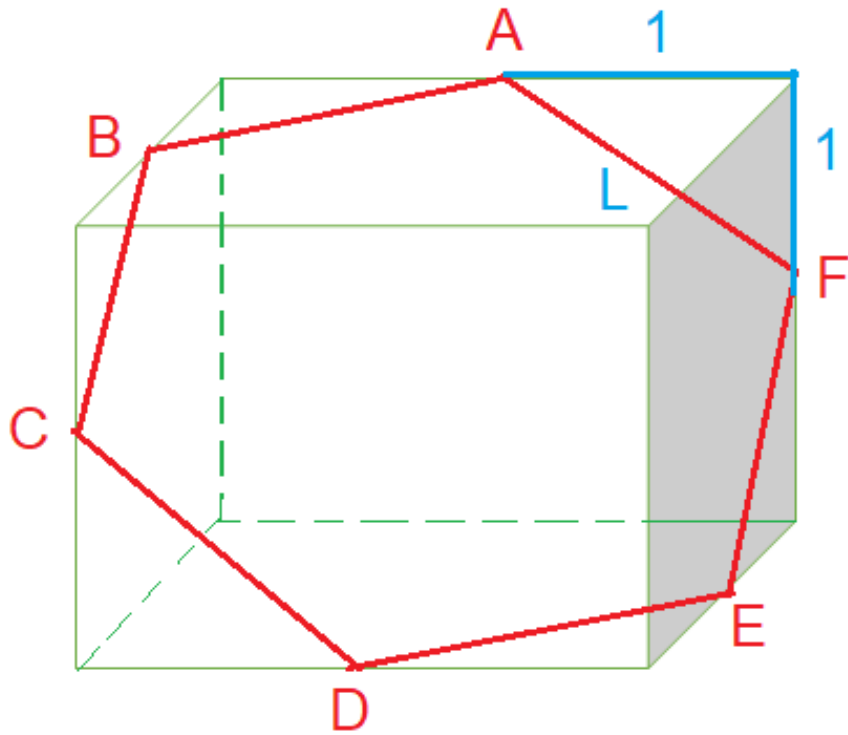
*Traçando o plano perpendicular, encontramos o hexágono regular da figura 1:*



*Tenho que encontrar a área desse hexágono. Preciso encontrar o lado do hexágono.*

*Observe a figura 2.*

Figura 2



$$L^2 = 1^1 + 1^1 \rightarrow L^2 = 2$$

$$A_{\text{Hexágono regular}} = \frac{3 \cdot L^2 \cdot \sqrt{3}}{2} \rightarrow A_{\text{Hexágono regular}} = \frac{3 \cdot 2 \cdot \sqrt{3}}{2} = 3\sqrt{3}$$

**RESPOSTA: C**

## QUESTÃO 22

Um quadrilátero de vértices consecutivos  $A_1 A_2 A_3 A_4$  tem as distâncias entre os vértices  $A_i$  e  $A_j$  indicadas na matriz

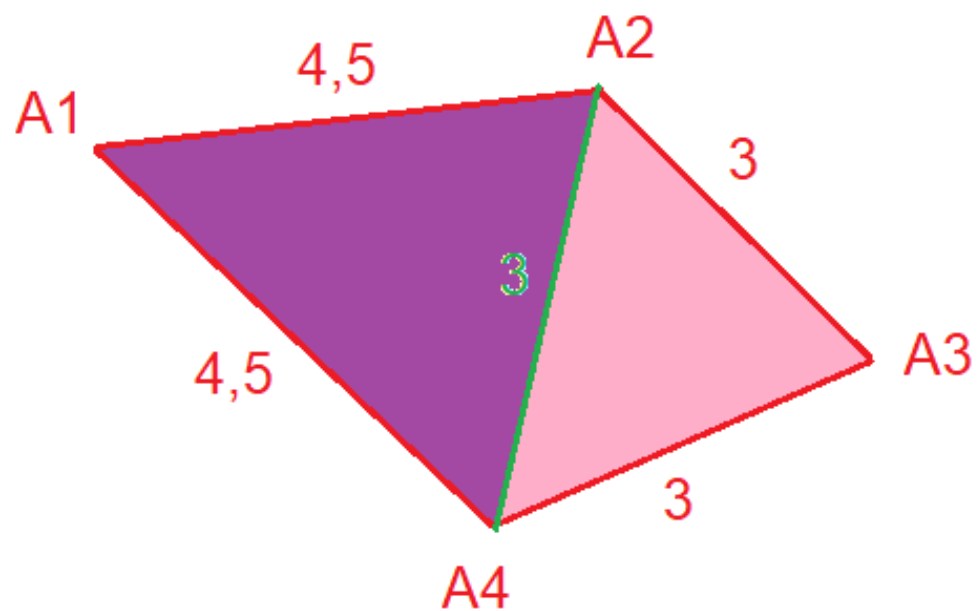
$$A = \begin{bmatrix} 0 & 4,5 & x & 4,5 \\ 4,5 & 0 & 3 & 3 \\ y & 3 & 0 & 3 \\ 4,5 & 3 & 3 & 0 \end{bmatrix}$$

pelo elemento  $a_{ij}$ , com valores em  $cm$  e  $x, y \in \mathbb{R}$ . Determine a área desse quadrilátero e assinale a opção correta.

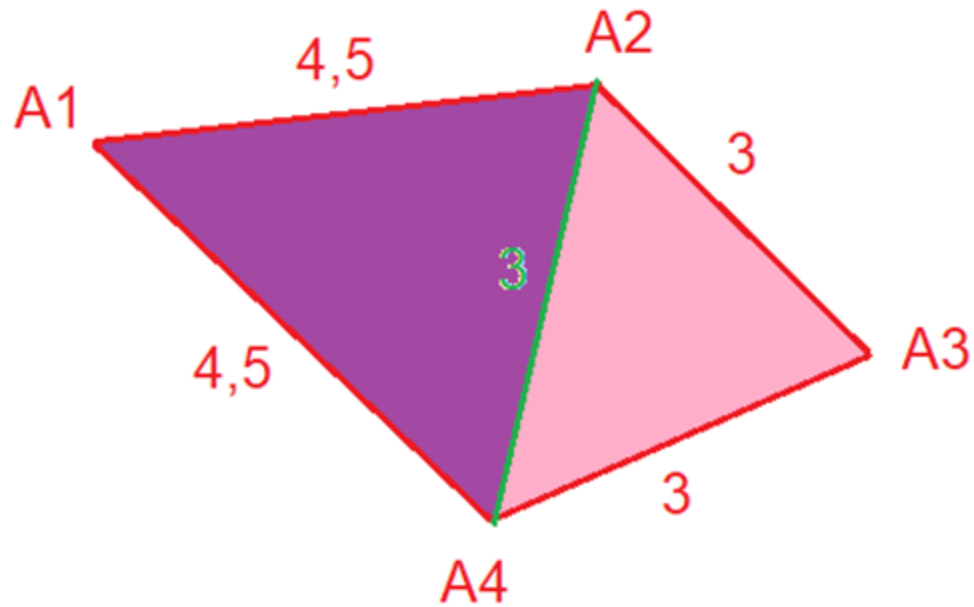
- (A)  $\frac{9}{2}(2\sqrt{2} + \sqrt{3})cm^2$
- (B)  $\frac{9}{4}(2\sqrt{2} + \sqrt{3})cm^2$
- (C)  $\frac{9}{2}(\sqrt{2} + \sqrt{3})cm^2$
- (D)  $\frac{9}{4}(\sqrt{2} + \sqrt{3})cm^2$
- (E)  $\frac{9}{2}(2\sqrt{2} - \sqrt{3})cm^2$

*A partir dos elementos da matriz A, encontramos os lados do quadrilátero abaixo.*

$$A = \begin{bmatrix} 0 & 4,5 & x & 4,5 \\ 4,5 & 0 & 3 & 3 \\ y & 3 & 0 & 3 \\ 4,5 & 3 & 3 & 0 \end{bmatrix}$$



*Temos que encontrar a área do quadrilátero.*



$$A_{\text{quadrilátero}} = A_{\text{triângulo rosa}} + A_{\text{triângulo roxo}}$$

$$A_{\text{triângulo rosa}} = \frac{L^2 \cdot \sqrt{3}}{4} = \frac{3^2 \cdot \sqrt{3}}{4} = \frac{9\sqrt{3}}{4}$$

$A_{\text{triângulo roxo}} \rightarrow$  *pode traçar a altura ou fazer por Heron.*

$$\text{Heron} \rightarrow p = \frac{a + b + c}{2} \rightarrow p = \frac{4,5 + 4,5 + 3}{2} \rightarrow p = 6$$

$$A_{\text{triângulo roxo}} = \sqrt{p \cdot (p - a) \cdot (p - b) \cdot (p - c)} \rightarrow A_{\text{triângulo roxo}} = \sqrt{6 \cdot (6 - 4,5) \cdot (6 - 4,5) \cdot (6 - 3)}$$

$$A_{\text{triângulo roxo}} = \sqrt{6 \cdot 1,5 \cdot 1,5 \cdot 3} \rightarrow A_{\text{triângulo roxo}} = \sqrt{6 \cdot \frac{3}{2} \cdot \frac{3}{2} \cdot 3} \rightarrow A_{\text{triângulo roxo}} = \sqrt{\frac{2 \cdot 3 \cdot 3 \cdot 3 \cdot 3}{4}}$$

$$A_{\text{triângulo roxo}} = \frac{3 \cdot 3}{2} \cdot \sqrt{2} \rightarrow A_{\text{triângulo roxo}} = \frac{9\sqrt{2}}{2}$$

$$A_{\text{quadrilátero}} = \frac{9 \cdot \sqrt{3}}{4} + \frac{9 \cdot \sqrt{2}}{2} = \frac{9}{4} \cdot (\sqrt{3} + 2\sqrt{2})$$

**RESPOSTA: B**



### QUESTÃO 23

Os instrutores Adilson (1), Daverson (2), Estácio (3), Isnard (4) e Vicente (5) foram convocados para elaborar o CPAEAM/2023. Eles votaram entre si e elegeram o presidente dessa banca. Seus votos foram organizados segundo a matriz  $P$  abaixo, em que cada elemento  $p_{ij}$  é igual a 1 (um), se "i" votou em "j", e 0 (zero), se "i" não votou em "j".

$$P = \begin{bmatrix} 0 & 1 & 0 & 1 & 0 \\ 1 & 1 & 0 & 0 & 0 \\ 0 & 0 & 1 & 0 & 1 \\ 0 & 0 & 1 & 0 & 0 \\ 1 & 1 & 0 & 1 & 0 \end{bmatrix}$$

O número de votos foi livre e cada um deles pode votar em si mesmo. Assinale a opção que apresenta quem foi escolhido como presidente da banca.

- (A) Adilson
- (B) Daverson
- (C) Estácio
- (D) Isnard
- (E) Vicente

$$P = \begin{bmatrix} 0 & 1 & 0 & 1 & 0 \\ 1 & 1 & 0 & 0 & 0 \\ 0 & 0 & 1 & 0 & 1 \\ 0 & 0 & 1 & 0 & 0 \\ 1 & 1 & 0 & 1 & 0 \end{bmatrix}$$

*Cada elemento  $p_{ij}$  significa  $i$  votou em  $j$ . Assim, podemos pensar nas linhas em quem se vota e, nas colunas, quem recebeu votos.*

*Candidato 1 → recebeu 2 votos*

*Candidato 2 → recebeu 3 votos*

*Candidato 3 → recebeu 2 votos*

*Candidato 4 → recebeu 2 votos*

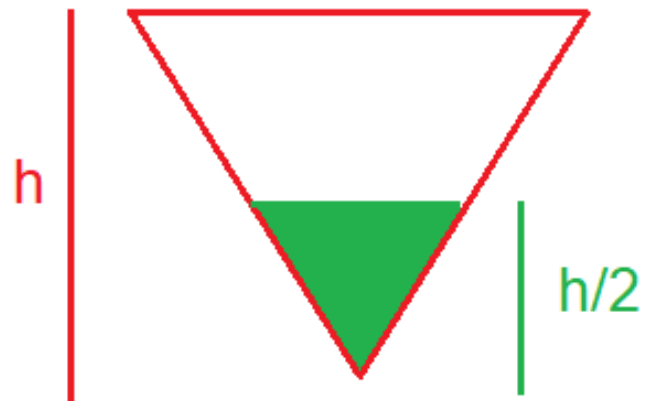
*Candidato 5 → recebeu 1 voto*

**RESPOSTA: B**

## QUESTÃO 24

Na recepção da passagem de comando da EAMSC os drinks foram servidos em taças cônicas de 320 ml. Um dos convidados que estava com a taça completamente cheia, resolveu beber a quantidade do drink suficiente para que a bebida restante ficasse na metade da altura da taça, sem considerar sua base. Com base nessas informações, assinale a opção que apresenta a quantidade de bebida que ele sorveu nesse gole.

- (A) 280 ml.
- (B) 200 ml.
- (C) 160 ml.
- (D) 80 ml.
- (E) 40 ml.



$$\frac{V}{v} = \left(\frac{H}{h}\right)^3 \rightarrow \frac{320}{v} = \left(\frac{h}{\frac{h}{2}}\right)^3 \rightarrow \frac{320}{v} = 2^3 \rightarrow 320 = 8v \rightarrow v = \frac{320}{8} = 40\text{mL}$$

$$V_{\text{bebeu}} = 320 - 40 = 280\text{mL}$$

**RESPOSTA: A**

### QUESTÃO 25

Considere as equações  $x^2 - 9y^2 - 6x - 18y - 9 = 0$ ,  
 $x^2 + y^2 - 2x + 4y + 1 = 0$  e  $x^2 - 4x - 4y + 8 = 0$ ,  
com  $(x, y) \in \mathbb{R}^2$ . Analise e assinale a opção que apresenta,  
respectivamente, as representações geométricas das  
equações.

- (A) Hipérbole, elipse, parábola.
- (B) Hipérbole, circunferência, reta.
- (C) Hipérbole, circunferência, parábola.
- (D) Elipse, circunferência, parábola.
- (E) Elipse, circunferência, reta.

$$x^2 - 9y^2 - 6x - 18y - 9 = 0 \rightarrow x^2 - 6x + 9 - 9(y^2 + 2y + 1) = 9 + 9 - 9$$

$$(x - 3)^2 - 9(y + 1)^2 = 9 \rightarrow \frac{(x - 3)^2}{9} - (y + 1)^2 = 1 \rightarrow \textit{H\u00edperbole}$$

$$x^2 + y^2 - 2x + 4y + 1 = 0 \rightarrow x^2 - 2x + 1 + y^2 + 4y + 4 = -1 + 1 + 4$$

$$(x - 1)^2 + (y + 2)^2 = 4 \rightarrow \textit{circunfer\u00eancia}$$

$$x^2 - 4x - 4y + 8 = 0 \rightarrow x^2 - 4x + 4 = 4y - 4 \rightarrow (x - 2)^2 = 4 \cdot (y - 1) \rightarrow \textit{Par\u00e1bola}$$

**RESPOSTA: C**

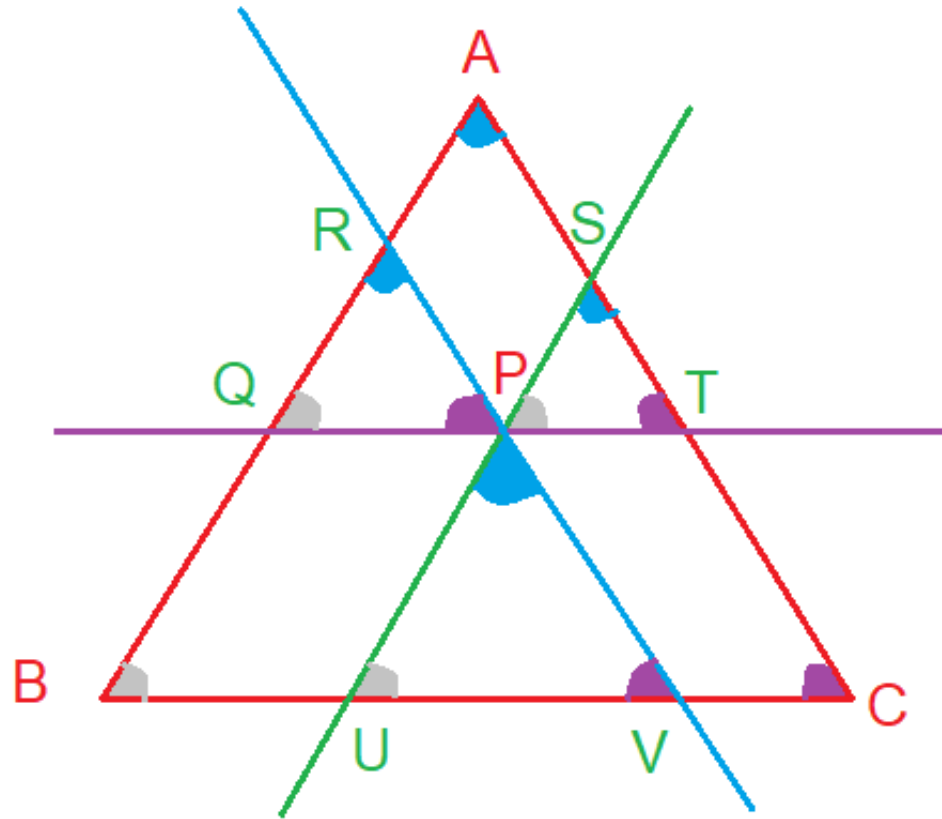
### QUESTÃO 26

Através de um ponto P qualquer, tomado dentro de um triângulo, são traçadas três retas paralelas aos lados desse triângulo. Essas retas dividem a superfície do triângulo em seis partes, três das quais são triângulos de áreas  $4 \text{ cm}^2$ ,  $9 \text{ cm}^2$  e  $16 \text{ cm}^2$ . Assinale a opção que apresenta a área do triângulo original.

- (A)  $64 \text{ cm}^2$
- (B)  $72 \text{ cm}^2$
- (C)  $81 \text{ cm}^2$
- (D)  $90 \text{ cm}^2$
- (E)  $100 \text{ cm}^2$

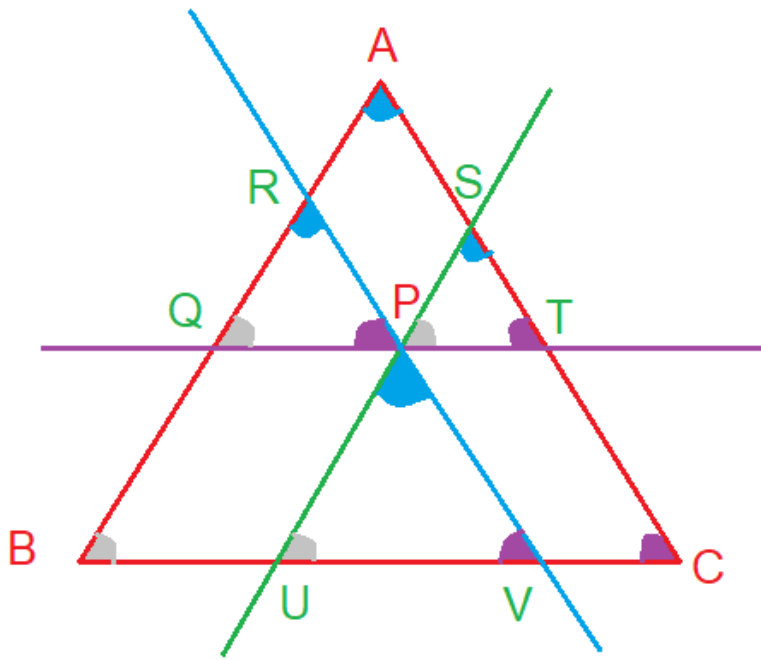
## ***Solução 1:***

***Escolhendo um ponto  $P$  qualquer dentro do triângulo e traçando as paralelas, temos a figura abaixo:***



***Temos 4 triângulos semelhantes:  $ABC$ ,  $PQR$ ,  $PST$  e  $PUV$ , pois eles têm os ângulos iguais, conforme figura.***





$$\frac{A_{PQR}}{A_{ABC}} = \left(\frac{PQ}{BC}\right)^2 \rightarrow \frac{4}{A_{ABC}} = \left(\frac{PQ}{BC}\right)^2 \rightarrow \frac{PQ}{BC} = \frac{2}{\sqrt{A_{ABC}}} \rightarrow PQ = \frac{2BC}{\sqrt{A_{ABC}}}$$

$$\frac{A_{PST}}{A_{ABC}} = \left(\frac{PT}{BC}\right)^2 \rightarrow \frac{9}{A_{ABC}} = \left(\frac{PT}{BC}\right)^2 \rightarrow \frac{PT}{BC} = \frac{3}{\sqrt{A_{ABC}}} \rightarrow PT = \frac{3BC}{\sqrt{A_{ABC}}}$$

$$\frac{A_{PUV}}{A_{ABC}} = \left(\frac{UV}{BC}\right)^2 \rightarrow \frac{16}{A_{ABC}} = \left(\frac{UV}{BC}\right)^2 \rightarrow \frac{UV}{BC} = \frac{4}{\sqrt{A_{ABC}}} \rightarrow UV = \frac{4BC}{\sqrt{A_{ABC}}}$$

*PQBU e PTVC são paralelogramos.*

$$BU + UV + VC = BC \rightarrow PQ + UV + PT = BC \rightarrow \frac{2BC}{\sqrt{A_{ABC}}} + \frac{4BC}{\sqrt{A_{ABC}}} + \frac{3BC}{\sqrt{A_{ABC}}} = BC$$

$$BC \cdot \left( \frac{2}{\sqrt{A_{ABC}}} + \frac{4}{\sqrt{A_{ABC}}} + \frac{3}{\sqrt{A_{ABC}}} \right) = BC$$

$$\left( \frac{2}{\sqrt{A_{ABC}}} + \frac{4}{\sqrt{A_{ABC}}} + \frac{3}{\sqrt{A_{ABC}}} \right) = 1 \rightarrow \sqrt{A_{ABC}} = 2 + 4 + 3$$

$$\left( \sqrt{A_{ABC}} \right)^2 = (2 + 4 + 3)^2 \rightarrow A_{ABC} = 81$$

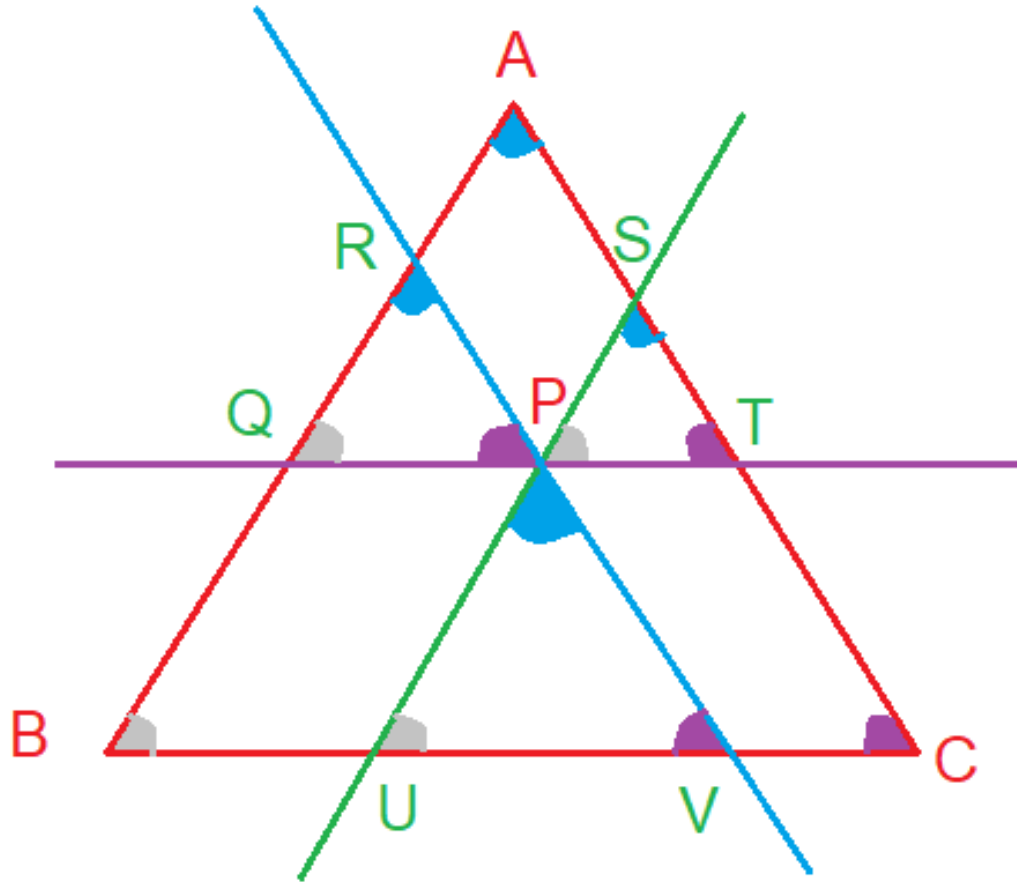
*OBS. Existe uma fórmula para essa situação:*

$$A_{ABC} = \left( \sqrt{A_{PQR}} + \sqrt{A_{PST}} + \sqrt{A_{PUV}} \right)^2 \rightarrow A_{ABC} = (\sqrt{4} + \sqrt{9} + \sqrt{16})^2 \rightarrow A_{ABC} = (2 + 3 + 4)^2 = 81$$

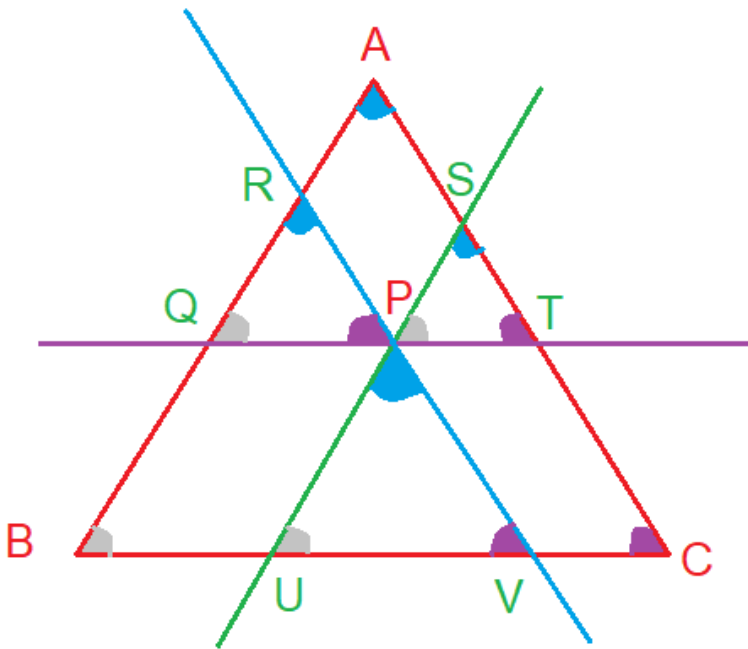
**RESPOSTA: C**

**Solução 2:**

**Escolhendo um ponto  $P$  qualquer dentro do triângulo e traçando as paralelas, temos a figura abaixo:**



**Temos 4 triângulos semelhantes:  $ABC$ ,  $PQR$ ,  $PST$  e  $PUV$ , pois eles têm os ângulos iguais, conforme figura.**



$$A_{PQR} = 4; A_{PST} = 9; A_{PUV} = 16; A_{ABC} = ?$$

*PQBU e PTCV são paralelogramos.*

$$\frac{A_{PQR}}{A_{PST}} = \left(\frac{PQ}{PT}\right)^2 \rightarrow \frac{4}{9} = \left(\frac{PQ}{PT}\right)^2 \rightarrow \frac{PQ}{PT} = \frac{2}{3} \rightarrow \begin{cases} PQ = 2k \\ PT = 3k \end{cases}$$

$$\frac{A_{PQR}}{A_{PUV}} = \left(\frac{PQ}{UV}\right)^2 \rightarrow \frac{4}{16} = \left(\frac{PQ}{UV}\right)^2 \rightarrow \frac{PQ}{UV} = \frac{2}{4} \rightarrow \begin{cases} PQ = 2k \\ UV = 4k \end{cases}$$

*No  $\Delta ABC$ , o lado  $BC = BU + UV + VC$ . Mas,  $BU = PQ$  e  $VC = PT$ .  $BC = 2k + 4k + 3k = 9k$*

$$\frac{A_{PUV}}{A_{ABC}} = \left(\frac{UV}{BC}\right)^2 \rightarrow \frac{A_{PUV}}{A_{ABC}} = \left(\frac{4k}{9k}\right)^2 \rightarrow \frac{16}{81k^2} = \frac{16k^2}{81k^2} \rightarrow \frac{1}{A_{ABC}} = \frac{1}{81} \rightarrow A_{ABC} = 81$$

**RESPOSTA: C**

**QUESTÃO 27**

Sejam  $a$  e  $b$  as soluções reais da equação

$$\frac{4 + \sqrt{2x^2 - 7}}{\sqrt{2x^2 - 7}} = \sqrt{2x^2 - 7} + 4, \text{ com } a > b.$$

Assinale a opção que apresenta o valor correto para  $a^b$ .

- (A) -4
- (B) -0,25
- (C) 0,25
- (D) 1
- (E) 4

$$\frac{4 + \sqrt{2x^2 - 7}}{\sqrt{2x^2 - 7}} = \sqrt{2x^2 - 7} + 4; \text{ raízes } a \text{ e } b; a > b; a^b = ?$$

*Considere:*  $\sqrt{2x^2 - 7} = t$

$$\frac{4 + t}{t} = t + 4 \rightarrow 4 + t = t^2 + 4t \rightarrow t^2 + 3t - 4 = 0$$

$$t = \frac{-3 \pm \sqrt{9 + 16}}{2} \rightarrow t = \frac{-3 \pm 5}{2} \rightarrow \begin{cases} t_1 = \frac{-3 + 5}{2} = 1 \\ t_2 = \frac{-3 - 5}{2} = -4 \end{cases}$$

$\sqrt{2x^2 - 7} = 1$  ou  $\sqrt{2x^2 - 7} = -4$  (não serve, pois o resultado de raiz quadrada é um número positivo)

$$\sqrt{2x^2 - 7} = 1 \rightarrow (\sqrt{2x^2 - 7})^2 = 1^2 \rightarrow 2x^2 - 7 = 1 \rightarrow 2x^2 = 8 \rightarrow x^2 = 4 \rightarrow x = \pm 2$$

*OBS. Como se trata de uma equação irracional, teria que verificar as raízes 2 e -2. Mas, é fácil ver que as duas satisfazem.*

*Como  $a > b$ ,  $a = 2$  e  $b = -2$ .*

$$a^b = (2)^{-2} = \frac{1}{2^2} = \frac{1}{4} = 0,25$$

**RESPOSTA: C**

## QUESTÃO 28

Um concurso para as Escolas de Aprendizes-Marinheiros ofereceu uma certa quantidade de vagas, das quais  $\frac{1}{5}$  foi destinado para a área de Eletroeletrônica. O restante foi dividido igualmente entre as áreas de Profissional de Apoio e Mecânica. As áreas de Mecânica e Eletroeletrônica contam com uma subespecialidade em comum, chamada Armamento de Aviação, que recebeu 30% das vagas de Mecânica e 50% das vagas de Eletroeletrônica. Em relação ao concurso em questão, determine o percentual de vagas destinadas a Armamento de Aviação e assinale a opção correta.

- (A) 22%
- (B) 26%
- (C) 30%
- (D) 40%
- (E) 80%



*Eletroeletrônica*  $\rightarrow \frac{1}{5} = 20\%$

*Dividiu igualmente entre as demais*  $\rightarrow \begin{cases} \text{Profissional de apoio} = 40\% \\ \text{Mecânica} = 40\% \end{cases}$

*Armamento de aviação = 30% de Mecânica e 50% de Eletroeletrônica*

$$\text{Armamento de aviação} = \frac{30}{100} \cdot \frac{40}{100} + \frac{50}{100} \cdot \frac{20}{100} = \frac{12}{100} + \frac{10}{100} = \frac{22}{100} = 22\%$$

**RESPOSTA: A**

## QUESTÃO 29

Ao se tentar abrir uma porta com um chaveiro que contém várias chaves parecidas, há quem afirme que a porta será aberta somente na última tentativa. Pedro recebeu a tarefa de guardar equipamentos no paiol e, para tal, deram-lhe um chaveiro contendo oito chaves. Assim, calcule a probabilidade de que ele acerte somente na última tentativa e assinale a opção correta.

- (A) 12,5%
- (B) 25,0%
- (C) 50,0%
- (D) 75,0%
- (E) 87,5%

$$\mathbf{EEEEEEEC} \rightarrow \frac{7}{8} \cdot \frac{6}{7} \cdot \frac{5}{6} \cdot \frac{4}{5} \cdot \frac{3}{4} \cdot \frac{2}{3} \cdot \frac{1}{2} \cdot 1 = \frac{1}{8} = 0,125 = 12,5\%$$

**RESPOSTA: A**

### QUESTÃO 30

O polinômio  $P(x) = -x^3 + 2x^2 + mx + n$  é divisível simultaneamente pelos polinômios  $Q(x) = x - 1$  e  $R(x) = x - 2$ . Determine o valor de  $m - n$  e assinale a opção correta.

- (A) -1
- (B) 0
- (C) 1
- (D) 2
- (E) 3

$$p(x) = -x^3 + 2x^2 + mx + n; \text{ divisível por } \rightarrow \begin{cases} Q(x) = x - 1 \\ R(x) = x - 2 \end{cases}; m - n = ?$$

$$\text{Pelo Teorema do resto } \rightarrow \begin{cases} p(1) = 0 \\ p(2) = 0 \end{cases}$$

$$p(1) = -(1)^3 + 2 \cdot (1)^2 + m \cdot 1 + n = 0 \rightarrow -1 + 2 + m + n = 0 \rightarrow m + n = -1$$

$$p(2) = -(2)^3 + 2 \cdot (2)^2 + m \cdot 2 + n = 0 \rightarrow -8 + 8 + 2m + n = 0 \rightarrow 2m + n = 0$$

$$\begin{cases} m + n = -1 \\ 2m + n = 0 \end{cases} \rightarrow \begin{cases} -m - n = 1 \\ 2m + n = 0 \end{cases} \rightarrow \text{somando as equações} \rightarrow m = 1$$

$$1 + n = -1 \rightarrow n = -2$$

$$m - n = 1 - (-2) = 3$$

**RESPOSTA: E**