



MINISTÉRIO DA DEFESA
COMANDO DA AERONÁUTICA
ESCOLA DE ESPECIALISTAS DE AERONÁUTICA

EEAR – CFS 1 - 2015

PROFESSOR MARCOS JOSÉ

49 – Seja a equação $x^3 - 5x^2 + 7x - 3 = 0$. Usando as relações de Girard, pode-se encontrar como soma das raízes o valor

- a) 12
- b) 7
- c) 5
- d) 2

Solução:

$$\text{Relações de Girard} \rightarrow \begin{cases} x_1 + x_2 + x_3 = -\frac{b}{a} = -\frac{-5}{1} = 5 \\ x_1 \cdot x_2 + x_1 \cdot x_3 + x_2 \cdot x_3 = \frac{c}{a} = \frac{7}{1} = 7 \\ x_1 \cdot x_2 \cdot x_3 = -\frac{d}{a} = -\frac{-3}{1} = 3 \end{cases}$$

RESPOSTA: C

50 – Se $a > 0$, $b > 0$, $c > 0$ e $c \neq 1$, então é correto afirmar que

a) $\log_c(a + b) = \log_c a + \log_c b$

b) $\log_c(a + b) = (\log_c a) \cdot (\log_c b)$

c) $\log_c(a \cdot b) = \log_c a + \log_c b$

d) $\log_c(a \cdot b) = (\log_c a) \cdot (\log_c b)$

Solução:

Propriedade: Logaritmo do produto $\rightarrow \log_c(a \cdot b) = \log_c a + \log_c b$

RESPOSTA: C

51 – Os especialistas alertam que é preciso beber, em média, 2 litros de água por dia. Isso equivale a 10 copos com capacidade de 200 cm^3 . Um copo cilíndrico com esta capacidade e 2 cm de raio da base tem, aproximadamente, _____ cm de altura. (Considere $\pi = 3$)

- a) 17
- b) 18
- c) 19
- d) 20

Solução:

$$V_{\text{cilindro}} = \pi \cdot r^2 \cdot h \rightarrow 200 = 3 \cdot 2^2 \cdot h \rightarrow 200 = 12 \cdot h \rightarrow h = \frac{200}{12} \cong 17 \text{ cm}$$

RESPOSTA: A

52 – Se $f(x) = a^x + b$ é uma função tal que $f(0) = \frac{4}{3}$ e $f(-1) = 1$,

então o valor de “a” é

- a) 1 b) 2 c) $\frac{1}{2}$ d) $\frac{3}{2}$

Solução:

$$f(x) = a^x + b \rightarrow \begin{cases} \frac{4}{3} = a^0 + b \rightarrow \frac{4}{3} = 1 + b \rightarrow b = \frac{4}{3} - 1 \rightarrow b = \frac{1}{3} \\ 1 = a^{-1} + b \rightarrow 1 = \frac{1}{a} + \frac{1}{3} \rightarrow \frac{1}{a} = 1 - \frac{1}{3} \rightarrow \frac{1}{a} = \frac{2}{3} \rightarrow a = \frac{3}{2} \end{cases}$$

RESPOSTA: D

53 – Seja $z = \sqrt{3}(\cos 20^\circ + i \cdot \sin 20^\circ)$ um número complexo na forma trigonométrica. Assim, z^2 é igual a

a) $3 \cdot (\cos 20^\circ + i \cdot \sin 20^\circ)$

b) $3 \cdot (\cos 40^\circ + i \cdot \sin 40^\circ)$

c) $2\sqrt{3} \cdot (\cos 20^\circ + i \cdot \sin 20^\circ)$

d) $2\sqrt{3} \cdot (\cos 40^\circ + i \cdot \sin 40^\circ)$

Solução:

$$z = \sqrt{3} \cdot (\cos 20^\circ + i \cdot \sin 20^\circ) \rightarrow z^2 = (\sqrt{3})^2 \cdot (\cos 2 \cdot 20^\circ + i \cdot \sin 2 \cdot 20^\circ) \rightarrow z^2 = 3 \cdot (\cos 40^\circ + i \cdot \sin 40^\circ)$$

RESPOSTA: B

54 – O valor do determinante $\begin{vmatrix} 1 & 0 & 2 \\ -1 & 0 & -2 \\ 2 & 3 & 4 \end{vmatrix}$ é

- a) - 2
- b) 0
- c) 1
- d) 2

Solução: Utilizando a Regra de Sarrus: $D = \begin{vmatrix} 1 & 0 & 2 \\ -1 & 0 & -2 \\ 2 & 3 & 4 \end{vmatrix}$

1	0	2	1	0
-1	0	-2	-1	0
2	3	4	2	3

0 -6 0 0 0 -6

$$D = (0 + 0 - 6) - (0 - 6 + 0) \rightarrow D = -6 + 6 = 0$$

RESPOSTA: B

55 – A função $f(x) = x^2 - 2x - 2$ tem um valor _____, que é _____.

- a) mínimo; - 5
- b) mínimo; - 3
- c) máximo; 5
- d) máximo; 3

Solução:

$f(x) = x^2 - 2x - 2 \rightarrow$ *parábola com concavidade para cima \rightarrow tem valor MÍNIMO.*

$$V_{\text{mínimo}} = -\frac{\Delta}{4a} = -\frac{(-2)^2 - 4 \cdot 1 \cdot (-2)}{4 \cdot 1} = -\frac{4 + 8}{4} = -3$$

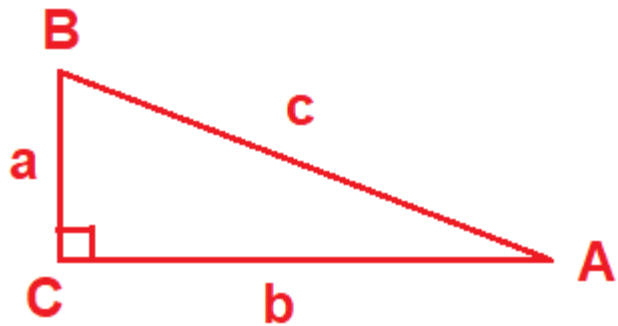
RESPOSTA: B

56 – Em um triângulo ABC, retângulo em C, a razão $\frac{\text{sen } \hat{B}}{\text{cos } \hat{A}}$ é

igual a

- a) $\frac{AC}{BC}$ b) $\frac{AB}{AC}$ c) 1 d) 2

Solução:



$$\text{sen}B = \frac{b}{c} \text{ e } \text{cos}A = \frac{b}{c} \rightarrow \text{sen}B = \text{cos}A \rightarrow \frac{\text{sen}B}{\text{cos}A} = 1$$

RESPOSTA: C

57 – Se $\text{sen } \alpha \cdot \text{cos } \beta = \frac{4}{13}$ e $\text{sen } \beta \cdot \text{cos } \alpha = \frac{36}{65}$, então

$\text{sen}(\alpha + \beta)$ é igual a

- a) $\frac{56}{65}$ b) $\frac{40}{65}$ c) $\frac{13}{36}$ d) $\frac{13}{56}$

Solução:

$$\text{sen}(\alpha + \beta) = \text{sen}\alpha \cdot \text{cos}\beta + \text{sen}\beta \cdot \text{cos}\alpha = \frac{4}{13} + \frac{36}{65} = \frac{20}{65} + \frac{36}{65} = \frac{56}{65}$$

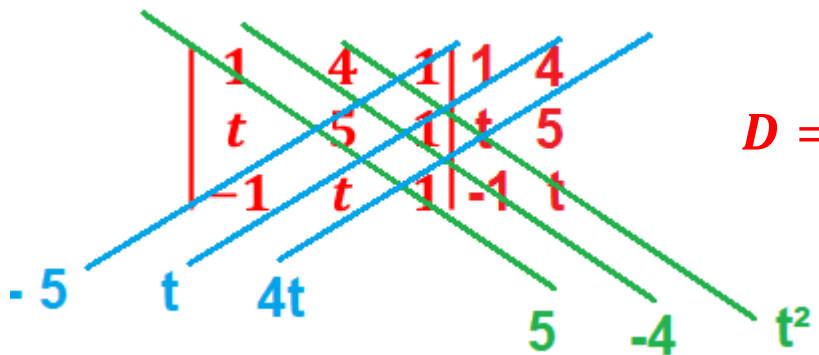
RESPOSTA: A

58 – Existe uma reta passando pelos pontos (1, 4), (t, 5) e (-1, t). A soma dos possíveis valores de t é

- a) 3
- b) 4
- c) 5
- d) 6

Solução:

Os pontos são colineares, logo, $D = 0$. $D = \begin{vmatrix} 1 & 4 & 1 \\ t & 5 & 1 \\ -1 & t & 1 \end{vmatrix}$



$$D = (5 - 4 + t^2) - (-5 + t + 4t) \rightarrow D = 1 + t^2 + 5 - 5t \rightarrow D = t^2 - 5t + 6$$

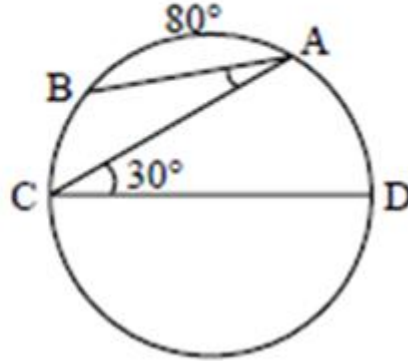
$$D = 0 \rightarrow t^2 - 5t + 6 = 0 \rightarrow t = \frac{-(-5) \pm \sqrt{(-5)^2 - 4 \cdot 1 \cdot 6}}{2 \cdot 1} \rightarrow t = \frac{5 \pm 1}{2}$$

$$\begin{cases} t_1 = \frac{5 + 1}{2} = 3 \\ t_2 = \frac{5 - 1}{2} = 2 \end{cases} \rightarrow \text{SOMA} = 3 + 2 = 5$$

RESPOSTA: C

59 – Na figura, A e B são pontos da circunferência e \overline{CD} é seu diâmetro. Assim, o ângulo $B\hat{A}C$ mede

- a) 20°
- b) 30°
- c) 50°
- d) 60°



Solução:

O arco $DA = 60^\circ$, pois o ângulo ACD é inscrito na circunferência.

Como o segmento CD é diâmetro, a soma dos arcos $DA + AB + BC = 180^\circ \rightarrow 60^\circ + 80^\circ + BC = 180^\circ$

$BC = 180^\circ - 140^\circ \rightarrow BC = 40^\circ \rightarrow$ O ângulo $B\hat{A}C$ é inscrito na circunferência $\rightarrow B\hat{A}C = \frac{BC}{2} = \frac{40^\circ}{2} = 20^\circ$

RESPOSTA: A

60 – Seja O o centro da circunferência α : $(x - 1)^2 + (y - 3)^2 = 9$. O ponto $P(3,2)$ é

- a) interior a α , estando mais próximo de α do que de O .
- b) interior a α , estando mais próximo de O do que de α .
- c) pertencente a α .
- d) exterior a α .

Solução:

$$\text{circunferência} \rightarrow (x - 1)^2 + (y - 3)^2 = 9 \rightarrow \begin{cases} \text{Centro: } O(1, 3) \\ \text{raio: } r^2 = 9 \rightarrow r = 3 \end{cases}$$

$$\text{Distância de } P(3,2) \text{ ao centro } O \rightarrow d = \sqrt{(3 - 1)^2 + (2 - 3)^2} \rightarrow d = \sqrt{4 + 1} \rightarrow d = \sqrt{5} \rightarrow d \cong 2,2$$

Como a distância é menor que o raio, o ponto P é interior a circunferência.

Como a distância é 2,2 e o raio é 3, o ponto P está mais próximo da circunferência do que do seu centro.

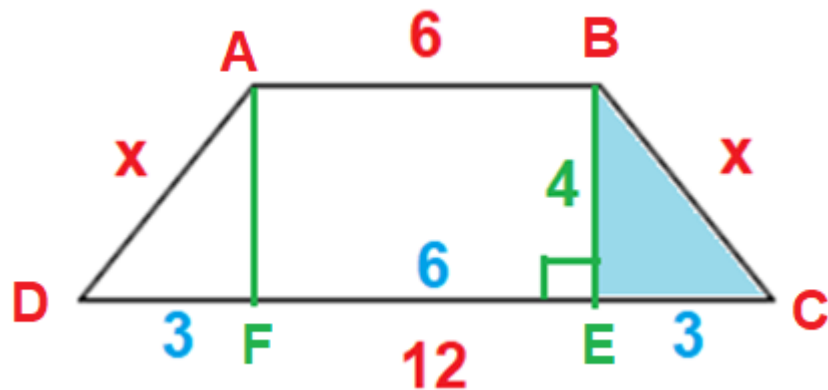
RESPOSTA: A

61 – Um trapézio isósceles tem base maior e base menor medindo, respectivamente, 12 cm e 6 cm. Se esse trapézio tem altura medindo 4 cm, então seu perímetro é ____ cm.

- a) 22
- b) 26
- c) 28
- d) 30



Solução:

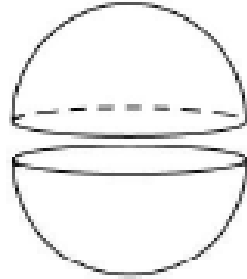


$$\text{No } \triangle BEC \rightarrow x^2 = 3^2 + 4^2 \rightarrow x^2 = 9 + 16 \rightarrow x^2 = 25 \rightarrow x = 5$$

$$\text{Perímetro} = 2p = 6 + 12 + x + x \rightarrow 2p = 18 + 5 + 5 \rightarrow 2p = 28 \text{ cm}$$

RESPOSTA: C

62 – Uma esfera de raio $R = 3$ cm foi cortada ao meio, gerando duas semi-esferas. A área da superfície de cada semi-esfera é _____ π cm^2 .



- a) 20
- b) 22
- c) 25
- d) 27

Solução:

Lembrete: Área da Superfície esférica $\rightarrow A_{SE} = 4 \cdot \pi \cdot R^2$

Cada semi-esfera tem área: $A_{semi-esfera} = \frac{1}{2} \cdot A_{SE} + A_{círculo} \rightarrow A_{semi-esfera} = \frac{1}{2} \cdot 4 \cdot \pi \cdot 3^2 + \pi \cdot 3^2$

$$A_{semi-esfera} = 18\pi + 9\pi = 27\pi \text{ cm}^2$$

RESPOSTA: D

63 – A reta r , de equação $y + 2x - 1 = 0$, corta o eixo x em $x = a$ e o eixo y em $y = b$. Assim, $a + b$ é igual a

- a) 3 b) 2 c) $\frac{3}{2}$ d) $\frac{1}{2}$

Solução:

$$y + 2x - 1 = 0 \rightarrow \begin{cases} \text{corta o eixo } x \rightarrow y = 0 \rightarrow 0 + 2a - 1 = 0 \rightarrow 2a = 1 \rightarrow a = \frac{1}{2} \\ \text{corta o eixo } y \rightarrow x = 0 \rightarrow b + 2 \cdot 0 - 1 = 0 \rightarrow b = 1 \end{cases}$$

$$a + b = \frac{1}{2} + 1 = \frac{3}{2}$$

RESPOSTA: C

64 – A tabela apresenta as notas dos alunos de uma turma em uma prova. A mediana dos dados da tabela é

- a) 3,5
- b) 4,5
- c) 3
- d) 4

Notas	Frequência (f_i)
1	2
2	4
3	14
4	9
5	6
Total	35

Solução:

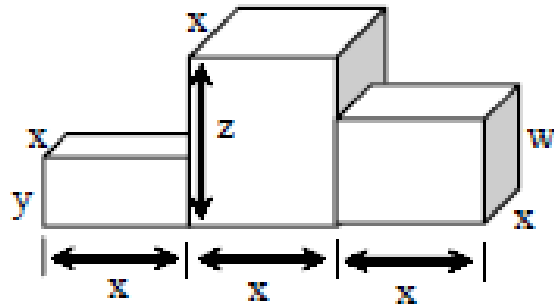
Como a quantidade de termos é ímpar (35), a mediana é o termo central.

Mediana = Termo Central \rightarrow Med. = a_{18} \rightarrow Med. = 3

RESPOSTA: C

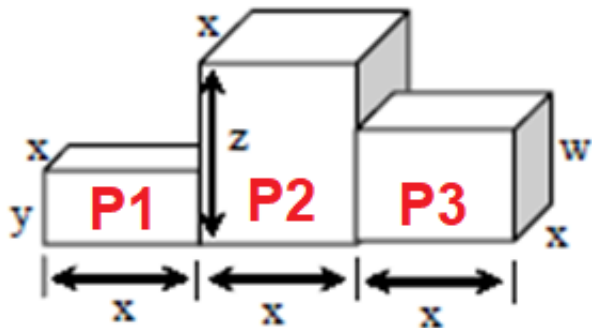
65 – Um pódio é composto por três paralelepípedos retângulos justapostos, conforme mostra a figura. Ao considerar $x = 5$ dm, $y = 2$ dm, $z = 6$ dm e $w = 4$ dm, o volume desse pódio, em dm^3 , é

- a) 150
- b) 200
- c) 250
- d) 300



Solução:

Lembrete: Volume de paralelepípedo retângulo com arestas a, b e $c \rightarrow V = a \cdot b \cdot c$



$$P1 \rightarrow V_1 = x \cdot y \cdot x \rightarrow V_1 = 5 \cdot 2 \cdot 5 \rightarrow V_1 = 50 \text{ dm}^3$$

$$P2 \rightarrow V_2 = x \cdot z \cdot x \rightarrow V_2 = 5 \cdot 6 \cdot 5 \rightarrow V_2 = 150 \text{ dm}^3$$

$$P3 \rightarrow V_3 = x \cdot x \cdot w \rightarrow V_3 = 5 \cdot 5 \cdot 4 \rightarrow V_3 = 100 \text{ dm}^3$$

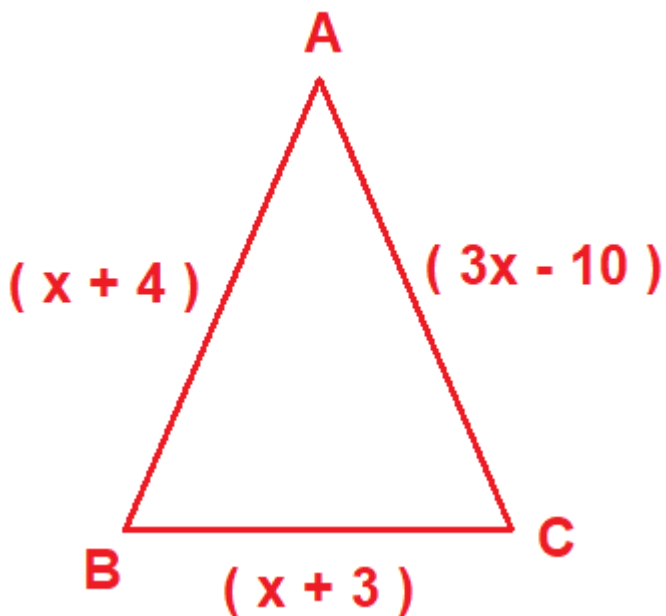
$$V_1 + V_2 + V_3 = 50 + 150 + 100 = 300 \text{ dm}^3$$

RESPOSTA: D

66 – Seja ABC um triângulo isósceles de base $BC = (x+3)$ cm, com $AB = (x+4)$ cm e $AC = (3x-10)$ cm. A base de ABC mede _____ cm.

- a) 4
- b) 6
- c) 8
- d) 10

Solução:



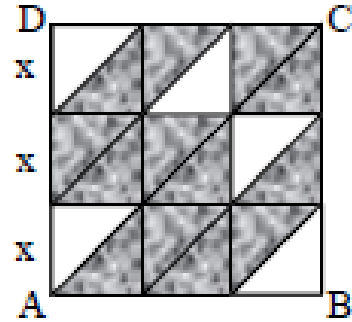
$$\Delta ABC \text{ isósceles} \rightarrow x + 4 = 3x - 10 \rightarrow 14 = 2x \rightarrow x = 7$$

$$\text{Base} = BC = 7 + 3 = 10 \text{ cm}$$

RESPOSTA: D

67 – Na figura, ABCD é um quadrado formado por pequenos quadrados de lado x divididos por uma de suas diagonais. Assim, a área sombreada, em função de x é

- a) $\frac{15.x^2}{2}$
- b) $\frac{13.x^2}{2}$
- c) $5,5.x^2$
- d) $3,5.x^2$



Solução: $A_{sombreada} = A_{quadrado} - 5 \cdot A_{triângulos\ brancos}$

$$A_{quadrado} = (3x)^2 = 9.x^2$$

$$A_{triângulo\ branco} = \frac{1}{2} \cdot A_{quadrado} = \frac{1}{2} \cdot x^2 = \frac{x^2}{2}$$

$$A_{sombreada} = 9.x^2 - 5 \cdot \frac{x^2}{2} = \frac{18.x^2 - 5.x^2}{2} = \frac{13.x^2}{2}$$

RESPOSTA: B

68 – Os dados da tabela referem-se às porcentagens de aumento salarial aplicadas nos últimos 6 anos em uma determinada empresa.

2008	2009	2010	2011	2012	2013
8%	9%	11%	10%	8%	8%

Os percentuais que correspondem à moda e à média desses dados, respectivamente, são

- a) 8 e 9 b) 9 e 10 c) 8 e 9,2 d) 8,8 e 9,2

Solução:

Moda é o valor que mais aparece → **Moda = 8%**

$$\text{Média} = \frac{8 + 9 + 11 + 10 + 8 + 8}{6} = \frac{54}{6} = 9\%$$

RESPOSTA: A

69 – A metade do número de anagramas da palavra PRISMA que começam por S é

- a) 10 b) 20 c) 30 d) 60

Solução:

PRISMA

$$\frac{S}{1 \cdot 5 \cdot 4 \cdot 3 \cdot 2 \cdot 1} = 120$$

$$\text{Número de anagramas} = \frac{120}{2} = 60$$

RESPOSTA: D

70 – Seja a função real $f(x) = \frac{x+5}{\sqrt{x-1}}$. A sentença que

completa corretamente a expressão do conjunto domínio

$D = \{x \in \mathbb{R} / \underline{\quad}\}$ dessa função é

a) $x > 1$

b) $x \neq 1$

c) $x > 0$

d) $x \neq 0$

Solução:

$$x - 1 > 0 \rightarrow x > 1$$

RESPOSTA: A

71 – Ao simplificar a expressão $(1 + \cos x)(1 - \cos x)$, tem-se

- a) 2 b) $\text{sen}^2 x$ c) $\text{cos}^2 x$ d) $2 + \text{cos}^2 x$

Solução:

$$(1 + \text{cos}x) \cdot (1 - \text{cos}x) = 1^2 - (\text{cos})^2 x = 1 - \text{cos}^2 x = \text{sen}^2 x$$

RESPOSTA: B

72 – Quatro números estão em PA de razão 3. Se o primeiro termo somado ao último é igual a 19, então o primeiro termo é

- a) 3 b) 4 c) 5 d) 6

Solução:

$$a_1 + a_4 = 19 \rightarrow a_1 + a_1 + 3.r = 19 \rightarrow 2.a_1 + 3.3 = 19 \rightarrow 2.a_1 = 10 \rightarrow a_1 = 5$$

RESPOSTA: C