



**MINISTÉRIO DA DEFESA
COMANDO DA AERONÁUTICA
ESCOLA DE ESPECIALISTAS DE AERONÁUTICA**

**EXAME DE ADMISSÃO AO CURSO DE
FORMAÇÃO DE SARGENTOS DA AERONÁUTICA**

EEAR – CFS 1 - 2023

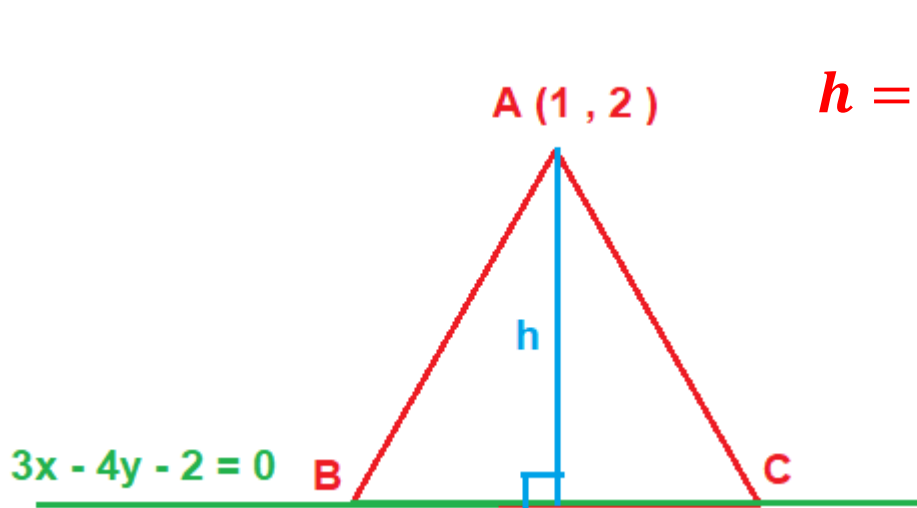
PROFESSOR MARCOS JOSÉ

49 – Seja um triângulo equilátero ABC, de vértice A(1, 2), cujo lado BC está sobre a reta de equação $3x - 4y - 2 = 0$. A altura desse triângulo é

- a) 1,5
- b) 1,4
- c) 1,3
- d) 1,2

Solução:

$h =$ Distância entre o vértice A e a reta



$$h = \left| \frac{3 \cdot (1) - 4 \cdot (2) - 2}{\sqrt{(3)^2 + (-4)^2}} \right| \rightarrow h = \left| \frac{3 - 8 - 2}{\sqrt{9 + 16}} \right| \rightarrow h = \left| \frac{-7}{5} \right| = 1,4$$

RESPOSTA: B

50 – Sejam as matrizes $A = \begin{bmatrix} 1 & 0 \\ 3 & 2 \end{bmatrix}$, $B = \begin{bmatrix} 2 & -1 \\ 0 & 2 \end{bmatrix}$, $C = \begin{bmatrix} 1 & 0 \\ 0 & 1 \end{bmatrix}$ e X ,

tais que $X - A \cdot B = 2C$. Então, $\det X = \underline{\hspace{2cm}}$.

Solução:

- a) 20
- b) 18
- c) -8
- d) -12

$$A \cdot B = \begin{bmatrix} 1 & 0 \\ 3 & 2 \end{bmatrix} \cdot \begin{bmatrix} 2 & -1 \\ 0 & 2 \end{bmatrix} = \begin{bmatrix} 1 \cdot 2 + 0 \cdot 0 & 1 \cdot (-1) + 0 \cdot 2 \\ 3 \cdot 2 + 2 \cdot 0 & 3 \cdot (-1) + 2 \cdot 2 \end{bmatrix} = \begin{bmatrix} 2 & -1 \\ 6 & 1 \end{bmatrix}$$

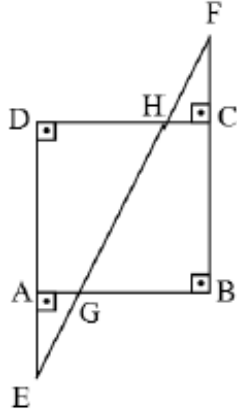
$$2C = \begin{bmatrix} 2 & 0 \\ 0 & 2 \end{bmatrix}$$

$$X - A \cdot B = 2C \rightarrow X = 2C + A \cdot B \rightarrow X = \begin{bmatrix} 2 & 0 \\ 0 & 2 \end{bmatrix} + \begin{bmatrix} 2 & -1 \\ 6 & 1 \end{bmatrix} \rightarrow X = \begin{bmatrix} 4 & -1 \\ 6 & 3 \end{bmatrix}$$

$$\det X = 4 \cdot 3 - (6 \cdot (-1)) \rightarrow \det X = 12 + 6 = 18$$

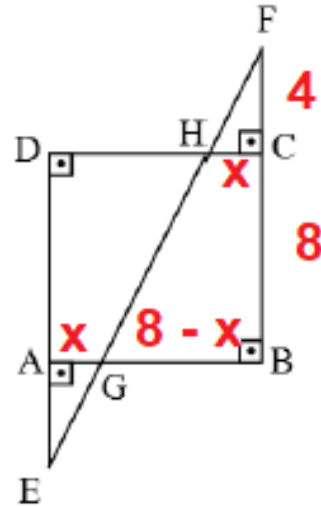
RESPOSTA: B

51 – Seja ABCD um quadrado de 8 cm de lado, conforme a figura. Se CF = 4 cm e se CH = AG, tem-se BG = _____ cm.



- a) 4
- b) 5
- c) 6
- d) 7

Solução:



$$\Delta BFG \sim \Delta CFH \rightarrow \frac{4}{12} = \frac{x}{8-x} \rightarrow \frac{1}{3} = \frac{x}{8-x} \rightarrow 3x = 8 - x \rightarrow 4x = 8 \rightarrow x = 2$$

$$BG = 8 - x = 8 - 2 = 6$$

RESPOSTA: C

52 – Do arco x sabe-se que $\text{sen } x \cdot \text{cos } x = -1/4$. Então, o valor de $\text{tg } x + \text{cotg } x$ é _____ e a extremidade desse arco x pode estar no _____ quadrante.

- a) $-4; 1^\circ$
- b) $-4; 2^\circ$
- c) $-2; 3^\circ$
- d) $-2; 4^\circ$

Solução:

$$\text{tg } x + \text{cotg } x = \frac{\text{sen } x}{\text{cos } x} + \frac{\text{cos } x}{\text{sen } x} = \frac{(\text{sen } x)^2 + (\text{cos } x)^2}{\text{cos } x \cdot \text{sen } x} = \frac{1}{-\frac{1}{4}} = -4$$

Como o produto de $\text{sen } x$ por $\text{cos } x$ está negativo, x pode estar no 2° Q ou no 4° Q.

RESPOSTA: B

53 – Utilizando os algarismos de 1 a 9, foram escritos números ímpares, de três algarismos distintos, de forma que nenhum deles termine com 1. A quantidade desses números é

- a) 224
- b) 264
- c) 280
- d) 320

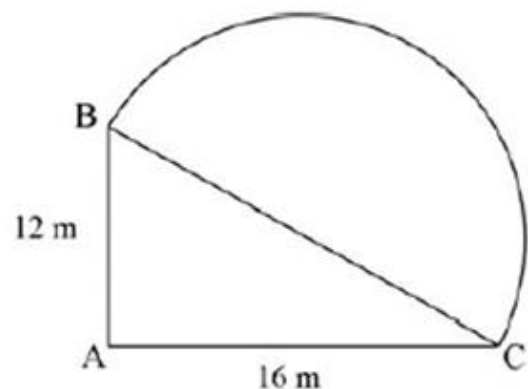
Solução:

8 7 4 (3, 5, 7, 9)

$$8 \times 7 \times 4 = 224$$

RESPOSTA: A

54 – Um jardim tem a forma da figura, sendo $\triangle ABC$ um triângulo retângulo em A e \widehat{BC} um arco de diâmetro \overline{BC} . De acordo com as medidas dadas na figura e usando $\pi = 3,14$, a área desse jardim é ____ m^2 .



- a) 295
- b) 282
- c) 260
- d) 253

Solução:

$$BC^2 = 12^2 + 16^2 \rightarrow BC^2 = 144 + 256 \rightarrow BC^2 = 400 \rightarrow BC = 20$$

Como $BC = 20$, o raio do semicírculo é igual a 10.

$$A_{\text{jardim}} = A_{\text{triângulo}} + A_{\text{semicírculo}} \rightarrow A_{\text{jardim}} = \frac{12 \cdot 16}{2} + \frac{1}{2} \cdot \pi \cdot 10^2 \rightarrow A_{\text{jardim}} = 96 + \frac{3,14 \cdot 100}{2}$$

$$A_{\text{jardim}} = 96 + 157 = 253$$

RESPOSTA: D

55 – A tabela informa o percentual de alunos inscritos, por região, em um determinado concurso (A), em 2013. Se esses dados forem representados em um gráfico de setores, a medida aproximada do ângulo do setor correspondente à região Sudeste é

Número de inscrições no concurso A em 2013	
Regiões	Inscritos (%)
Centro-Oeste	9
Norte	10
Sul	12
Nordeste	33
Sudeste	36

- a) 135°
- b) 132°
- c) 130°
- d) 120°

Solução:

$$\frac{360^\circ}{100\%} = \frac{\alpha}{36\%} \rightarrow \frac{360}{100} = \frac{\alpha}{36} \rightarrow \frac{18}{5} = \frac{\alpha}{36} \rightarrow 5\alpha = 648 \rightarrow \alpha \cong 129,6 \cong 130^\circ$$

RESPOSTA: C

56 – Seja a função, definida em reais, $f(x) = (kx - 1)^2 - 18$, com $k \in \mathbb{R}$. Para que seu gráfico seja uma parábola cuja ordenada do vértice seja o valor mínimo da função, é necessário que

- a) $k = 0$
- b) $k \leq 0$
- c) $k \geq 0$
- d) $k \neq 0$

Solução:

$$f(x) = k^2 x^2 - 2kx + 1 - 18 \rightarrow f(x) = k^2 x^2 - 2kx - 17$$

Valor mínimo \rightarrow **Concavidade para cima** $\rightarrow a > 0 \rightarrow k^2 > 0 \rightarrow k \neq 0$

RESPOSTA: D

57 – Sejam os pontos A e B e as retas r: $y = x + 3$ e s: $y = -x + 5$. Se A pertence à r e tem abscissa -2 , e se B pertence à s e tem ordenada 5, então o coeficiente angular da reta que passa por A e B é _____.

- a) -3
- b) -2
- c) 2
- d) 3

Solução:

$$A \in r \rightarrow A(-2, y_A) \rightarrow y_A = -2 + 3 = 1 \rightarrow A = (-2, 1)$$

$$B \in s \rightarrow B(x_B, 5) \rightarrow 5 = -x_B + 5 \rightarrow x_B = 0 \rightarrow B = (0, 5)$$

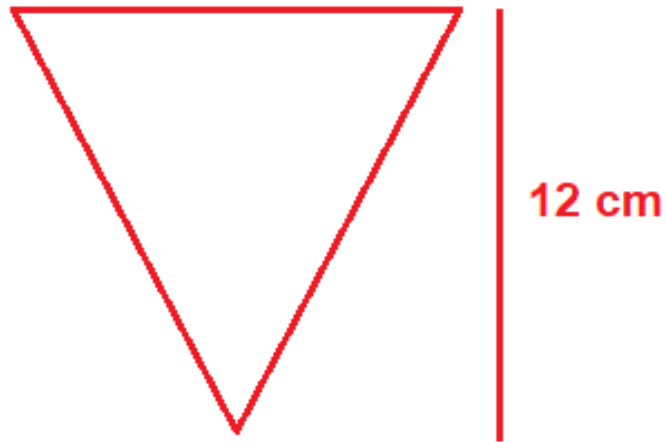
$$m = \frac{y_B - y_A}{x_B - x_A} \rightarrow m = \frac{5 - 1}{0 - (-2)} \rightarrow m = \frac{4}{2} = 2$$

RESPOSTA: C

58 – Um copo cônico tem 12 cm de profundidade. Se sua capacidade é de $100\pi \text{ cm}^3$, então o diâmetro interno da sua borda é _____ cm.

- a) 14
- b) 12
- c) 10
- d) 8

Solução:



$$V = \frac{1}{3} \cdot \pi \cdot R^2 \cdot h \rightarrow 100\pi = \frac{1}{3} \cdot \pi \cdot R^2 \cdot 12 \rightarrow 100 = 4 \cdot R^2 \rightarrow R^2 = 25 \rightarrow R = 5$$

$$d = 2R \rightarrow d = 2 \cdot 5 \rightarrow d = 10 \text{ cm}$$

RESPOSTA: C

59 – Sejam as funções $f: \mathbb{R}_+^* \rightarrow \mathbb{R}$ e $g: \mathbb{R} \rightarrow \mathbb{R}_+^*$, definidas por $f(x) = \log_k x$ e $g(x) = a^x$, com a e k reais positivos e diferentes de 1. Se a função composta $f \circ g(10)$ é igual a 10, então

- a) $k = 10a$
- b) $k = 1/a$
- c) $k = 2a$
- d) $k = a$

Solução:

$$f(g(10)) = 10 \rightarrow f(a^{10}) = 10 \rightarrow \log_k a^{10} = 10 \rightarrow k^{10} = a^{10} \rightarrow k = a$$

RESPOSTA: D

60 – Uma esfera foi seccionada em 3 partes. Se o volume de cada parte é $96\pi \text{ cm}^3$, o raio dessa esfera mede _____ cm.

- a) 4
- b) 5
- c) 6
- d) 7

Solução:

$$V_{Esfera} = 3 \times 96\pi \rightarrow V_{Esfera} = 288\pi$$

$$V_{Esfera} = \frac{4}{3} \cdot \pi \cdot R^3 \rightarrow 288\pi = \frac{4}{3} \cdot \pi \cdot R^3 \rightarrow 72 = \frac{R^3}{3} \rightarrow R^3 = 216 \rightarrow R = 6 \text{ cm}$$

RESPOSTA: C

61 – Sendo i a unidade imaginária, o valor de $i(1 + i(1 + i(1 + i)))$ é _____.

- a) 0
- b) 1
- c) $3 + 4i$
- d) $3 - 4i$

Solução:

$$i(1 + i(1 + i + i^2)) \rightarrow i(1 + i(1 + i - 1)) \rightarrow i(1 + i \cdot i) \rightarrow i \cdot (1 + i^2) \rightarrow i \cdot (1 - 1) = 0$$

RESPOSTA: A

62 (Adaptada) - Se as raízes da equação $\frac{3x^3}{2} - 7x^2 + \frac{23x}{2} - 5 = 0$ são $2 - i$, m e n , então o valor de $m \cdot n$ é igual a

- a) $\frac{2+i}{3}$
- b) $\frac{4+2i}{3}$
- c) $\frac{2+3i}{2}$
- d) $\frac{1+4i}{2}$

Solução 1:

$2 - i$ é raiz $\rightarrow 2 + i$ também é raiz

Seja $m = 2 + i \rightarrow$ Raízes = $\{2 - i, 2 + i, n\}$

Pelas Relações de Girard, temos:

$$2 - i + 2 + i + n = -\frac{b}{a} \rightarrow 4 + n = -\frac{-7}{\frac{3}{2}} \rightarrow 4 + n = \frac{14}{3} \rightarrow n = \frac{2}{3}$$

$$m \cdot n = (2 + i) \cdot \frac{2}{3} \rightarrow m \cdot n = \frac{4 + 2i}{3}$$

RESPOSTA: D

Solução 2:

$2 - i$ é raiz $\rightarrow 2 + i$ também é raiz

Seja $m = 2 + i \rightarrow$ Raízes = $\{2 - i, 2 + i, n\}$

Utilizando o dispositivo prático de Briot – Ruffini, temos

$2 - i$	$3/2$	-7	$23/2$	-5
$2 + i$	$3/2$	$-4 - 3i/2$	$2 + i$	0
	$3/2$	-1	0	

$$\frac{3}{2}x - 1 = 0 \rightarrow \frac{3}{2}x = 1 \rightarrow x = \frac{2}{3} = n$$

$$m \cdot n = (2 + i) \cdot \frac{2}{3} \rightarrow m \cdot n = \frac{4 + 2i}{3}$$

RESPOSTA: D

63 – Se a função inversa de $f: \mathbb{R}_-^* \rightarrow \mathbb{R}_+^*$; $f(x) = \frac{1}{-x}$ é a função g , então tem-se

a) $g: \mathbb{R}_+^* \rightarrow \mathbb{R}_-^*$; $g(x) = \frac{1}{-x}$

b) $g: \mathbb{R}_+^* \rightarrow \mathbb{R}_-^*$; $g(x) = -x$

c) $g: \mathbb{R}_-^* \rightarrow \mathbb{R}_+^*$; $g(x) = \frac{1}{-x}$

d) $g: \mathbb{R}_-^* \rightarrow \mathbb{R}_+^*$; $g(x) = -x$

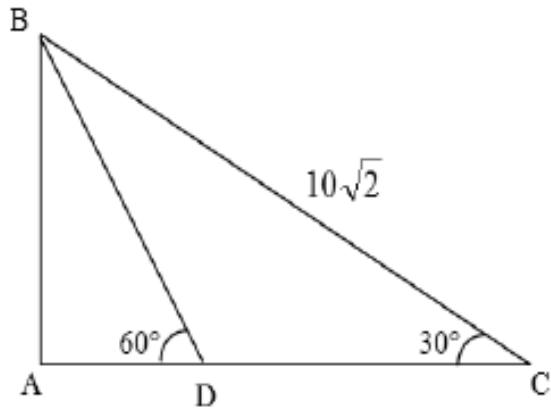
Solução:

$$y = -\frac{1}{x} \rightarrow x = -\frac{1}{y} \rightarrow y = -\frac{1}{x}$$

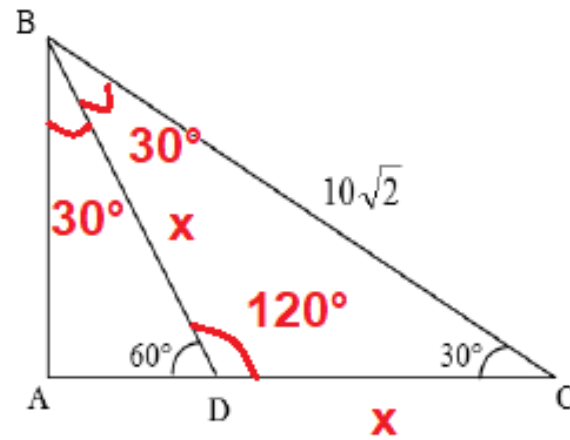
$$g: \mathbb{R}_+^* \rightarrow \mathbb{R}_-^* \rightarrow g(x) = -\frac{1}{x}$$

RESPOSTA: A

64 – Seja ABC um triângulo retângulo em A, conforme a figura. Se D está em \overline{AC} e se $BC = 10\sqrt{2}$ cm, então $DC =$ _____ cm.



Solução:



$$\text{No } \triangle ABC \rightarrow \text{sen}30^\circ = \frac{AB}{10\sqrt{2}} \rightarrow \frac{1}{2} = \frac{AB}{10\sqrt{2}} \rightarrow AB = 5\sqrt{2}$$

$$\text{No } \triangle ABD \rightarrow \text{sen}60^\circ = \frac{AB}{x} \rightarrow \frac{\sqrt{3}}{2} = \frac{5\sqrt{2}}{x} \rightarrow \sqrt{3}x = 10\sqrt{2}$$

$$x = \frac{10\sqrt{2}}{\sqrt{3}} \cdot \frac{\sqrt{3}}{\sqrt{3}} = \frac{10\sqrt{6}}{3}$$

RESPOSTA: D

- a) $3\sqrt{6}$
- b) $5\sqrt{6}$
- c) $\frac{5\sqrt{6}}{2}$
- d) $\frac{10\sqrt{6}}{3}$

65 – Seja z um número complexo tal que $z = \frac{x + 2xi}{1 - i}$. O

valor de x , para o qual z seja um número real, está contido no intervalo

- a) $[-3, 0]$
- b) $[-2, 0[$
- c) $] -1, 0[$
- d) $] -2, -1]$

Solução:

$$z = \frac{x + 2xi}{1 - i} \cdot x \frac{1 + i}{1 + i} \rightarrow z = \frac{x + x \cdot i + 2xi + 2xi^2}{1^2 + (-1)^2} \rightarrow z = \frac{x + 3xi - 2x}{1 + 1} \rightarrow z = \frac{-x + 3xi}{2}$$

Para z ser um número real, a parte imaginária tem que ser nula. Assim:

$$\text{Im}(z) = \frac{3x}{2} \rightarrow \frac{3x}{2} = 0 \rightarrow x = 0$$

RESPOSTA: A

66 – Seja uma função $f: \mathbb{R} \rightarrow \mathbb{R}$. Se o conjunto imagem de f é também o conjunto de todos os números reais, dentre as seguintes funções, a que poderia ser a função f é $f(x) = \underline{\hspace{2cm}}$.

- a) x^2
- b) 2^x
- c) $|x|$
- d) $\log x$

Solução:

a) $g(x) = x^2 \rightarrow Im(g) = R_+ \rightarrow Não pode$

b) $h(x) = 2^x \rightarrow Im(h) = R_+^ \rightarrow Não pode$*

c) $p(x) = |x| \rightarrow Im(p) = R_+ \rightarrow Não pode$

d) $q(x) = \log x \rightarrow Im(q) = R \rightarrow Poderia ser a função f$

RESPOSTA: D

67 – A mediana dos dados apresentados na tabela é _____.

valor	f_i
4	1
5	3
6	4
7	8
8	6
9	5

- a) 6
- b) 7
- c) 6,5
- d) 7,5

Solução:

$$\sum f_i = 1 + 3 + 4 + 8 + 6 + 5 = 27$$

Como a quantidade de termos é ímpar, a mediana será o termo central.

Como são 27 termos, o termo central é o décimo quarto.

$$\text{Mediana} = a_{14} \rightarrow \text{Mediana} = 7$$

RESPOSTA: B

68 – No plano cartesiano, os pontos C, D e E dividem o segmento \overline{AB} em partes de mesma medida, sendo C o ponto mais próximo de A e E o ponto mais próximo de B. Se A(3, 1) e B(15, 5), então as coordenadas de E são _____.

- a) (8, 3)
- b) (8, 4)
- c) (12, 3)
- d) (12, 4)

Solução:



Como o segmento está dividido em 4 partes iguais, temos:

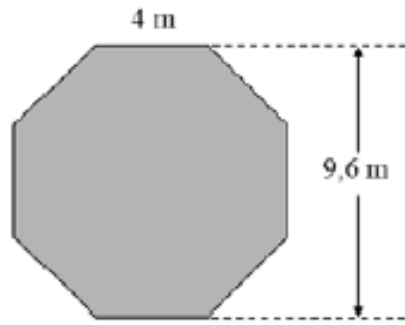
$$\begin{cases} \text{Abcissas} = \frac{15 - 3}{4} = 3 \\ \text{Ordenadas} = \frac{5 - 1}{4} = 1 \end{cases}$$

A partir do ponto A vamos somar 3 nas abscissas e 1 nas ordenadas e encontrar os outros pontos.

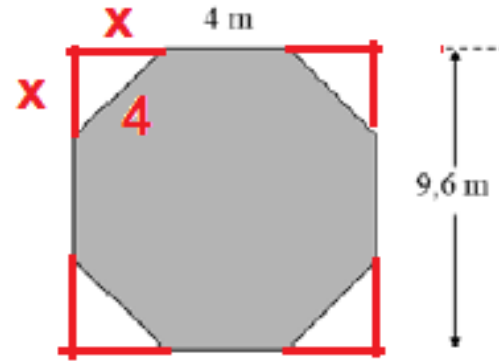
$$\begin{cases} C = (6, 2) \\ D = (9, 3) \\ E = (12, 4) \end{cases}$$

RESPOSTA: D

69 – As lutas de UFC costumam acontecer em um octógono regular, conforme o da figura. Considerando as medidas indicadas, a área do octógono é _____ m².



Solução:



$$4 + 2x = 9,6 \rightarrow 2x = 5,6 \rightarrow x = 2,8$$

- a) 48,6
- b) 76,8
- c) 84,6
- d) 96,8

$$A_{\text{octógono}} = A_{\text{quadrado}} - 4 \cdot A_{\text{triângulo}} \rightarrow A_{\text{octógono}} = (9,6) \cdot (9,6) - 4 \cdot \frac{x \cdot x}{2} \rightarrow A_{\text{octógono}} = (9,6) \cdot (9,6) - 2x^2$$

$$A_{\text{octógono}} \cong 92,16 - 2 \cdot (2,8)^2 \rightarrow A_{\text{octógono}} \cong 92,16 - 15,68 \rightarrow A_{\text{octógono}} \cong 76,5 \text{ m}^2$$

RESPOSTA: B

70 – Seja a_1 o primeiro termo de uma P.A. de razão 7 e também o primeiro termo de uma P.G. de razão 2. Para que o 8º termo da P.A. seja igual ao 4º termo da P.G., o valor de a_1 deve ser _____.

- a) 5
- b) 6
- c) 7
- d) 8

Solução:

$$a_8 = a_4 \rightarrow a_1 + 7r = a_1 \cdot q^3 \rightarrow a_1 + 7 \cdot 7 = a_1 \cdot 2^3 \rightarrow a_1 + 49 = 8 \cdot a_1$$

$$7 \cdot a_1 = 49 \rightarrow a_1 = 7$$

RESPOSTA: C

71 – Dado o sistema, um valor que não o satisfaz é **Solução:**

$$\begin{cases} 3 - 2x \leq 2 \\ x - 5 < 1 - x \end{cases}$$

$$3 - 2x \leq 2 \rightarrow -2x \leq -1 \rightarrow 2x \geq 1 \rightarrow x \geq \frac{1}{2}$$

$$x - 5 < 1 - x \rightarrow 2x < 6 \rightarrow x < 3$$

$$\frac{1}{2} \leq x < 3$$

a) $\sqrt{2}$

b) $\sqrt{3}$

c) $\sqrt{5}$

d) $\sqrt{10}$

RESPOSTA: D

72 – Sejam M e N dois poliedros convexos tais que: M tem 18 arestas, 8 vértices e m faces; e N tem 20 arestas, 10 vértices e n faces. Então é correto afirmar que _____ .

- a) $m = n$
- b) $m = n + 2$
- c) $n = m + 2$
- d) $m + n = 22$

Solução:

$$\text{Poliedro M} \rightarrow \begin{cases} A = 18 \\ V = 8 \\ F = m \end{cases} \rightarrow V + F = A + 2 \rightarrow 8 + m = 18 + 2 \rightarrow m = 12$$

$$\text{Poliedro N} \rightarrow \begin{cases} A = 20 \\ V = 10 \\ F = n \end{cases} \rightarrow V + F = A + 2 \rightarrow 10 + n = 20 + 2 \rightarrow n = 12$$

RESPOSTA: A