



CENTRO EDUCACIONAL ESPAÇO INTEGRADO
Ensino Médio

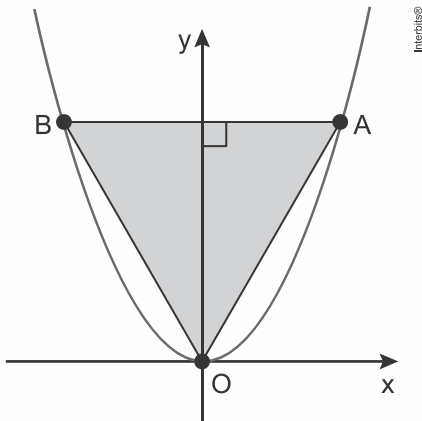
ESPM

Aluno (a): _____

Série: _____ Turma: _____ Data: _____

Disciplina: Matemática Professor(a): Emanuel Jaconiano

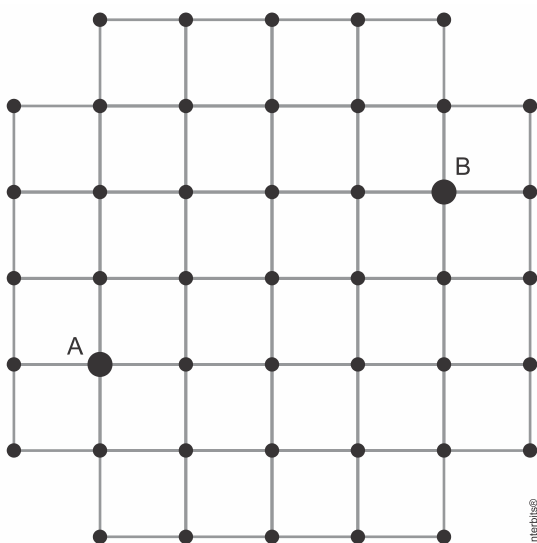
1. (Espm 2019) No plano cartesiano abaixo estão representados o gráfico da função $y = x^2$ e o triângulo equilátero OAB.



A área desse triângulo mede:

- a) $2\sqrt{3}$
- b) 3
- c) $\sqrt{3}$
- d) 2
- e) $3\sqrt{3}$

2. (Espm 2019) A figura abaixo representa uma parte de um bairro, onde os segmentos são as ruas e os pontos são as esquinas. Como só podemos caminhar pelas ruas, a distância entre os pontos A e B é de 6 quarteirões.

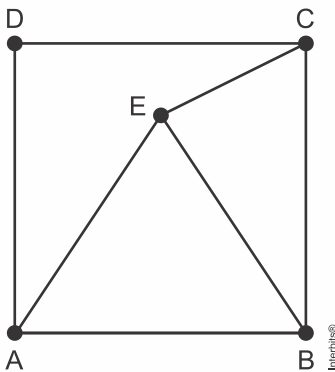


O número de esquinas assinaladas no mapa, que são equidistantes de A e B, é igual a:

- a) 5
- b) 6
- c) 9
- d) 8

e) 7

3. (Espm 2019) ABCD é um quadrado e ABE é um triângulo isósceles de base AB, interno ao quadrado.



Se o ângulo \widehat{BEC} mede 90° , a medida do ângulo ABE é igual a:

- a) 15°
- b) 30°
- c) 45°
- d) 60°
- e) 75°

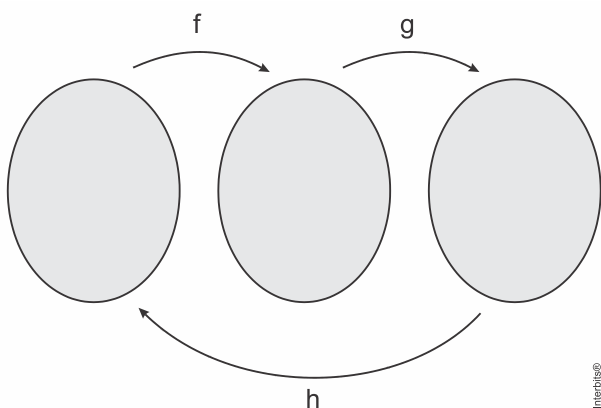
4. (Espm 2019) O número que se deve somar a 456.788^2 para se obter 456.789^2 é:

- a) 456.789
- b) 1
- c) 456.788
- d) 913.579
- e) 913.577

5. (Espm 2018) O vigésimo termo da PA $(x, 3 + x, 2x + 1, \dots)$ é igual a:

- a) 56
- b) 62
- c) 69
- d) 74
- e) 81

6. (Espm 2018) Se $f(x) = 2x + 1$ e $g(x) = 3 - x$, a função $h(x)$ representada no diagrama abaixo é:



- a) $h(x) = \frac{2-x}{2}$
- b) $h(x) = \frac{2-x}{x}$
- c) $h(x) = \frac{x}{2-x}$

d) $h(x) = \frac{x}{x-2}$

e) $h(x) = \frac{x-2}{2x}$

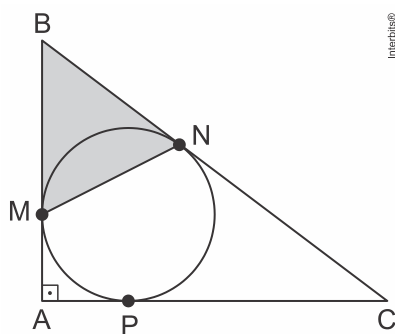
7. (Espm 2018) O número de anagramas da palavra COLEGA em que as letras L, E e G aparecem juntas em qualquer ordem é igual a:

- a) 72
- b) 144
- c) 120
- d) 60
- e) 24

8. (Espm 2018) Para que o domínio da função $f(x) = \sqrt{x(x-k)+1}$ seja todo o conjunto dos reais, deve-se ter:

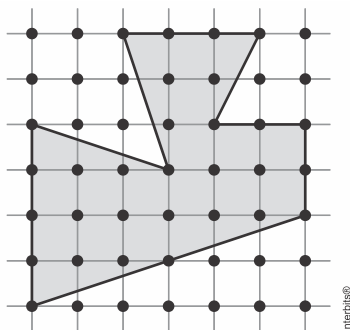
- a) $k < 0$
- b) $k > -1$
- c) $-1 \leq k \leq 1$
- d) $-2 \leq k \leq 2$
- e) $-1 \leq k \leq 3$

9. (Espm 2018) Na figura abaixo, M, N e P são os pontos de tangência do triângulo retângulo ABC com sua circunferência inscrita. Se $AB = 3$ e $AC = 4$, a área do triângulo BMN é igual a:



- a) 1,2
- b) 2,0
- c) 1,8
- d) 2,4
- e) 1,6

10. (Espm 2018) Considere uma malha quadriculada cujas células são quadrados de lado 1. Segundo o teorema de Pick, a área de um polígono simples cujos vértices são nós dessa malha, é igual ao número de nós da malha que se encontram no interior do polígono mais metade do número de nós que se encontram sobre o perímetro do polígono, menos uma unidade.



De acordo com esse teorema, a área do polígono representado na figura acima é igual a:

- a) 21
- b) 18

- c) 23
- d) 19
- e) 22

11. (Espm 2018) Juntas, as torneiras A e B enchem um tanque em 24 min. Se apenas a torneira A estiver aberta, o tempo de enchimento é de 1h. Podemos concluir que, se apenas a torneira B estiver aberta, esse tanque ficaria cheio em:

- a) 30 min.
- b) 40 min.
- c) 20 min.
- d) 36 min.
- e) 42 min.

12. (Espm 2018) A sequência $S = (\sin 60^\circ, 1 + \sin 30^\circ, 3 \cos 30^\circ)$ é:

- a) uma PA de razão $\operatorname{tg} 30^\circ$.
- b) uma PG de razão $\sin 60^\circ$.
- c) uma PA de razão $\operatorname{tg} 45^\circ$.
- d) uma PA de razão $1 + \sin 60^\circ$.
- e) uma PG de razão $\operatorname{tg} 60^\circ$.

13. (Espm 2018) Para que o número 64.800 se torne um cubo perfeito, devemos:

- a) multiplicá-lo por 30.
- b) dividi-lo por 60.
- c) multiplicá-lo por 90.
- d) dividi-lo por 150.
- e) multiplicá-lo por 18.

14. (Espm 2018) Segundo a Organização Mundial de Saúde (OMS), o Índice de Massa Corporal (IMC) ideal para um indivíduo adulto deve estar entre 18,5 e 25. Para o cálculo, usa-se a fórmula $\text{IMC} = \frac{\text{peso}}{\text{altura}^2}$.

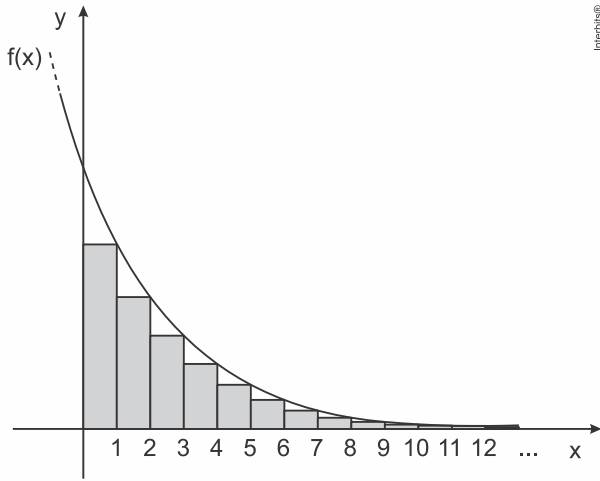
De acordo com o exposto, o peso ideal para um adulto de 1,70 m de altura deve estar entre:

- a) 54 kg e 65 kg
- b) 56 kg e 70 kg
- c) 48 kg e 67 kg
- d) 60 kg e 75 kg
- e) 54 kg e 72 kg

15. (Espm 2017) Dada a função real $f(x) = \frac{x^2 - 4}{x - 2}$, definida para $x \neq 2$, o valor de $f(1 + \sin 89^\circ)$ é aproximadamente igual a:

- a) 0
- b) 1
- c) 2
- d) 3
- e) 4

16. (Espm 2017) A figura abaixo representa parte do gráfico da função $f(x) = \frac{16}{2^x}$, fora de escala.



A soma das áreas dos infinitos retângulos assinalados é igual a:

- a) 16
- b) 8
- c) 24
- d) 32
- e) 12

17. (Espm 2017) Considere o sistema
$$\begin{cases} \frac{x}{y} + \frac{y}{z} = 6 \\ \frac{x}{y} + \frac{z}{x} = \frac{5}{2} \\ \frac{y}{z} + \frac{z}{x} = \frac{9}{2} \end{cases}$$
 onde x, y e z são reais não nulos.

O valor da expressão $\frac{x^2z + y^2x + z^2y}{xyz}$ é:

- a) $\frac{15}{2}$
- b) $\frac{17}{2}$
- c) $\frac{15}{4}$
- d) $\frac{13}{2}$
- e) $\frac{17}{4}$

18. (Espm 2017) Em uma competição de vôlei de praia participaram n duplas. Ao final, todos os adversários se cumprimentaram uma única vez com apertos de mãos. Sabendo-se que foram contados 180 apertos de mãos, podemos concluir que n é igual a:

- a) 8
- b) 9
- c) 10
- d) 11
- e) 12

19. (Espm 2017) Em volta do paralelepípedo reto-retângulo mostrado na figura abaixo será esticada uma corda do vértice A ao vértice E , passando pelos pontos B, C e D .

Gabarito:

Resposta da questão 1:

[E]

As coordenadas do ponto A são (a, a^2) , pois o ponto A pertence ao gráfico da função $f(x) = x^2$.

A distância do ponto A até a origem do sistema cartesiano é $2a$, ou seja, o lado do triângulo equilátero.

$$\sqrt{(a)^2 + (2a)^2} = 2a \Rightarrow a^2 + 4a^4 = 4a^2 \Rightarrow a = 0 \text{ ou } a = \sqrt{3}.$$

Concluimos que o lado do triângulo equilátero é $2a = 2 \cdot \sqrt{3}$.

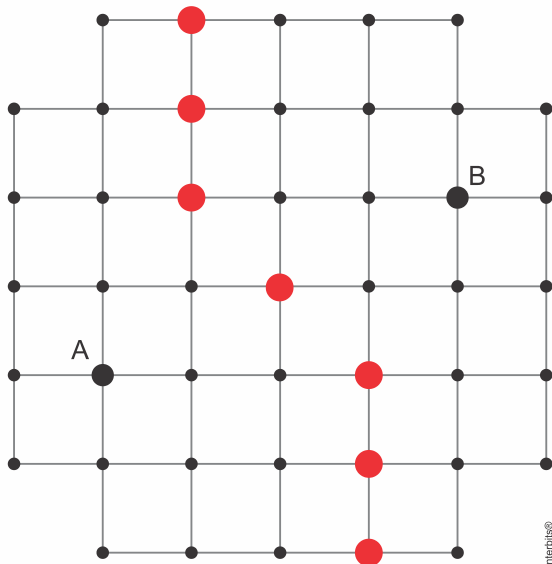
Portanto, sua área será dada por:

$$A = \frac{(2 \cdot \sqrt{3})^2 \cdot \sqrt{3}}{4} = 3 \cdot \sqrt{3}$$

Resposta da questão 2:

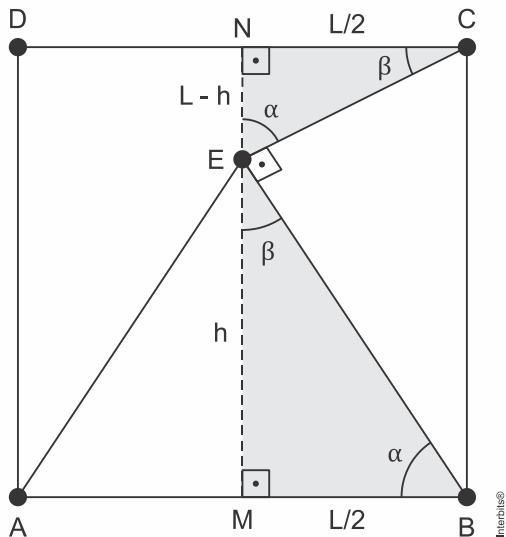
[E]

Os pontos que estão a mesma distância de A e B caminhando apenas pelas ruas, estão destacados na figura abaixo. São 7 no total.



Resposta da questão 3:

[C]



Considerando que $\widehat{ABE} = \alpha$, temos:

$$\triangle MBE \sim \triangle NEC$$

$$\frac{L-h}{\frac{L}{2}} = \frac{\frac{L}{2}}{h} \Rightarrow \frac{L^2}{4} = h \cdot L - h^2 \Rightarrow L^2 - 4 \cdot h \cdot L + 4h^2 = 0 \Rightarrow (L - 2h)^2 = 0 \Rightarrow L = 2h$$

Portanto:

No $\triangle MBE$, observamos que:

$$\operatorname{tg} \alpha = \frac{h}{\frac{L}{2}} = \frac{h}{h} = 1 \Rightarrow \alpha = 45^\circ$$

Resposta da questão 4:

[E]

Considerando que x seja o número procurado, temos:

$$456788^2 + x = 456789^2$$

$$x = 456789^2 - 456788^2$$

$$x = (456789 - 456788) \cdot (456789 + 456788)$$

$$x = 1 \cdot 913577 = 913577$$

Resposta da questão 5:

[B]

Da PA $(x, x + 3, 2x + 1, \dots)$, temos:

$$2 \cdot (3 + x) = x + 2x + 1$$

$$6 + 2x = 3x + 1$$

$$x = 5$$

Assim, temos:

PA $(5, 8, 11, \dots)$; razão: $r = 3$.

$$a_{20} = 5 + 19 \cdot 3$$

$$a_{20} = 62$$

Resposta da questão 6:

[A]

Calculando:

$$g(f(x)) = 3 - (2x + 1) = 2 - 2x$$

$$g^{-1}(f(x)) \Rightarrow x = 2 - 2x \Rightarrow y = \frac{2 - x}{2}$$

Resposta da questão 7:

[B]

Calculando:

$$\left. \begin{array}{l} \text{LEG} \Rightarrow 4 \cdot (3 \cdot 2 \cdot 1) = 24 \\ \text{LGE} \Rightarrow 4 \cdot (3 \cdot 2 \cdot 1) = 24 \\ \text{ELG} \Rightarrow 4 \cdot (3 \cdot 2 \cdot 1) = 24 \\ \text{EGL} \Rightarrow 4 \cdot (3 \cdot 2 \cdot 1) = 24 \\ \text{GLE} \Rightarrow 4 \cdot (3 \cdot 2 \cdot 1) = 24 \\ \text{GEL} \Rightarrow 4 \cdot (3 \cdot 2 \cdot 1) = 24 \end{array} \right\} \Rightarrow 6 \cdot 24 = 144$$

Resposta da questão 8:

[D]

Calculando:

$$f(x) = \sqrt{x \cdot (x - k) + 1}$$

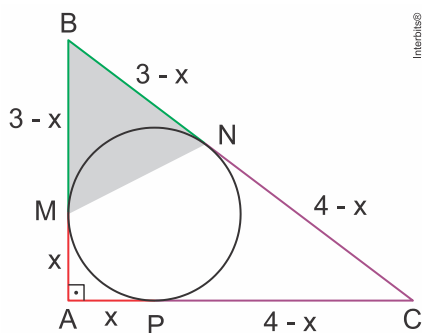
$$x \cdot (x - k) + 1 \geq 0 \Rightarrow x^2 - xk + 1 = 0$$

$$\Delta = k^2 - 4 \geq 0 \Leftrightarrow -2 \leq k \leq 2$$

Resposta da questão 9:

[E]

Do enunciado e da figura, temos:



No triângulo ABC,

$$(BC)^2 = 3^2 + 4^2 \Rightarrow BC = 5$$

Daí,

$$3 - x + 4 - x = 5 \Rightarrow x = 1$$

Ainda no triângulo ABC,

$$\text{sen}(\widehat{ABC}) = \frac{4}{5}$$

Assim, sendo S a medida da área do triângulo BMN, temos:

$$S = \frac{1}{2} \cdot 2 \cdot 2 \cdot \frac{4}{5} \Rightarrow S = 1,6$$

Resposta da questão 10:

[A]

Do enunciado e da figura, a área do polígono representado na figura é $14 + \frac{16}{2} - 1 = 21$.

Resposta da questão 11:

[B]

Seja x litros a capacidade do tanque. Do enunciado, temos:

A torneira A gasta 60 minutos para encher x litros, logo, em 1 minuto, ela enche $\frac{x}{60}$ litros.

As torneiras A e B juntas gastam 24 minutos para encher x litros, logo, em 1 minuto, enchem $\frac{x}{24}$ litros.

Daí, em 1 minuto, a torneira B enche $\frac{x}{24} - \frac{x}{60} = \frac{x}{40}$ litros.

Assim, em 40 minutos a torneira B, sozinha, encheria o tanque.

Resposta da questão 12:

[E]

$$S = (\text{sen}60^\circ, 1 + \text{sen}30^\circ, 3\cos30^\circ)$$

$$S = \left(\frac{\sqrt{3}}{2}, \frac{3}{2}, \frac{3\sqrt{3}}{2} \right)$$

Note que:

$$\frac{\frac{3}{2}}{\frac{\sqrt{3}}{2}} = \sqrt{3} \text{ e } \frac{\frac{3\sqrt{3}}{2}}{\frac{3}{2}} = \sqrt{3}$$

Assim, S é uma PG de razão $\sqrt{3} = \text{tg}60^\circ$.

Resposta da questão 13:

[C]

Calculando:

$$64800 = 2^3 \cdot 2^2 \cdot 3^3 \cdot 3 \cdot 5^2$$

$$\frac{2^3 \cdot 2^2 \cdot 3^3 \cdot 3 \cdot 5^2}{64800} \cdot \frac{2 \cdot 3^2 \cdot 5}{90} = 2^3 \cdot 2^3 \cdot 3^3 \cdot 3^3 \cdot 5^3 \Rightarrow \sqrt[3]{2^3 \cdot 2^3 \cdot 3^3 \cdot 3^3 \cdot 5^3} \Rightarrow \text{cubo perfeito}$$

Resposta da questão 14:

[E]

Calculando:

$$18,5 = \frac{\text{peso}}{1,7^2} \Rightarrow \text{peso}_{\text{mín}} = 53,465 \text{ kg}$$

$$25 = \frac{\text{peso}}{1,7^2} \Rightarrow \text{peso}_{\text{máx}} = 72,25 \text{ kg}$$

Resposta da questão 15:

[E]

Tem-se que

$$f(x) = \frac{x^2 - 4}{x - 2} = \frac{(x - 2)(x + 2)}{x - 2} = x + 2.$$

Portanto, como $\text{sen}89^\circ \cong \text{sen}90^\circ = 1$, vem

$$f(1 + \text{sen}89^\circ) = 1 + \text{sen}89^\circ + 2 \cong 4.$$

Resposta da questão 16:

[A]

Desde que todos os retângulos têm bases congruentes e de medida igual a 1, segue que o resultado é dado por

$$\begin{aligned} f(1) + f(2) + f(3) + \dots &= 8 + 4 + 2 + \dots \\ &= \frac{8}{1 - \frac{1}{2}} \\ &= 16. \end{aligned}$$

Resposta da questão 17:

[D]

Somando as equações, temos

$$\frac{2x}{y} + \frac{2y}{z} + \frac{2z}{x} = 13 \Leftrightarrow \frac{x^2z + xy^2 + yz^2}{xyz} = \frac{13}{2}.$$

Resposta da questão 18:

[C]

Se todos os atletas se cumprimentassem, então o número de apertos de mãos seria igual a $\binom{2n}{2}$. Mas, como apenas adversários se cumprimentam, devemos descontar desse total o número de apertos de mãos trocados entre atletas de uma mesma dupla, qual seja n .

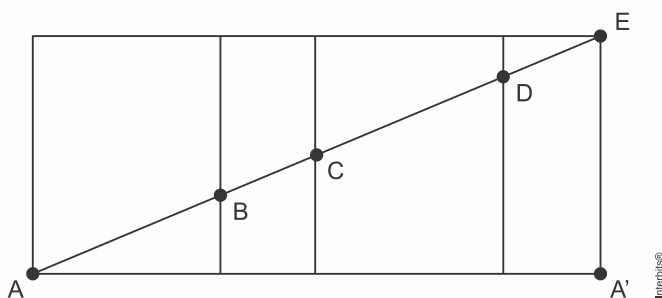
Portanto, segue que o resultado é tal que

$$\begin{aligned} \binom{2n}{2} - n = 180 &\Rightarrow \frac{(2n)!}{2!(2n-2)!} - n = 180 \\ &\Rightarrow n^2 - n - 90 = 0 \\ &\Rightarrow n = 10. \end{aligned}$$

Resposta da questão 19:

[B]

Considere a planificação da superfície lateral do paralelepípedo, na qual está indicado o comprimento mínimo, AE , da corda.



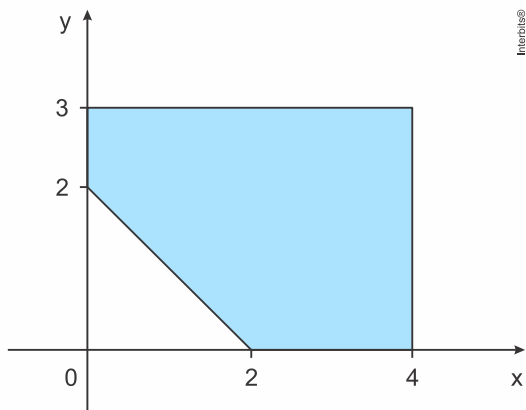
Portanto, sendo $\overline{AA'} = 12$ e $\overline{A'E} = 5$, pelo Teorema de Pitágoras, vem

$$\begin{aligned} \overline{AE}^2 &= \overline{AA'}^2 + \overline{A'E}^2 \Rightarrow \overline{AE}^2 = 12^2 + 5^2 \\ &\Rightarrow \overline{AE} = 13. \end{aligned}$$

Resposta da questão 20:

[D]

Considere a figura, em que está representada a região do plano que satisfaz $0 \leq x \leq 4$, $0 \leq y \leq 3$ e $y \geq -x + 2$.



A área da região é dada por

$$4 \cdot 3 - \frac{1}{2} \cdot 2 \cdot 2 = 10 \text{ u.a.}$$

Resposta da questão 21:

[E]

Seja a função $p: \mathbb{R}_+ \rightarrow \mathbb{R}$, dada por $p(t) = p_0 \cdot (1,02)^t$, com $p(t)$ sendo a população do país após t anos. Logo, como queremos calcular t para o qual se tem $p(t) = 2 \cdot p_0$, vem

$$2 \cdot p_0 = p_0 \cdot (1,02)^t \Leftrightarrow \log(1,02)^t = \log 2$$

$$\Leftrightarrow t \cdot \log(1,02) = \log 2$$

$$\Leftrightarrow t = \frac{\log 2}{\log 1,02}$$

$$\Rightarrow t \cong \frac{0,301}{0,0086}$$

$$\Leftrightarrow t = 35.$$

